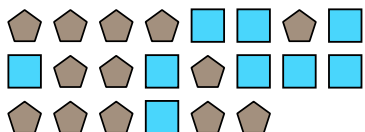





Risolvi ogni problema.

Es) Indica quadrati come una frazione dell'intero.



1) Indica triangoli come una frazione dell'intero.



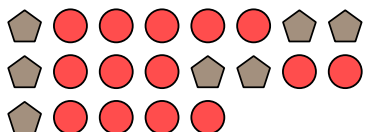
2) Indica stelle come una frazione dell'intero.



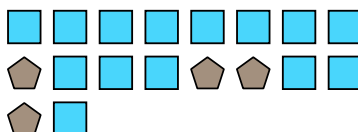
3) Indica triangoli come una frazione dell'intero.



4) Indica cerchi come una frazione dell'intero.



5) Indica pentagoni come una frazione dell'intero.



6) Indica stelle come una frazione dell'intero.



7) Indica hearts come una frazione dell'intero.



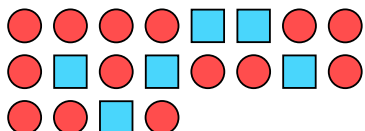
8) Indica moons come una frazione dell'intero.



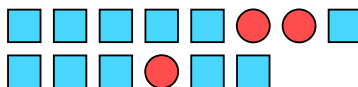
9) Indica pentagoni come una frazione dell'intero.



10) Indica quadrati come una frazione dell'intero.



11) Indica quadrati come una frazione dell'intero.



Risposte

Es. $\frac{9}{22}$

1. $\frac{13}{17}$

2. $\frac{7}{9}$

3. $\frac{2}{6}$

4. $\frac{14}{21}$

5. $\frac{4}{18}$

6. $\frac{11}{20}$

7. $\frac{10}{13}$

8. $\frac{5}{7}$

9. $\frac{8}{13}$

10. $\frac{6}{20}$

11. $\frac{11}{14}$