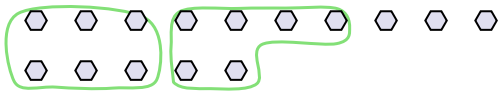


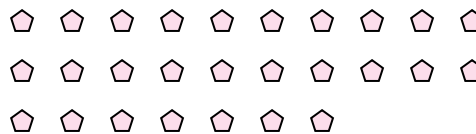


Segui l'esempio per rispondere alle domande.

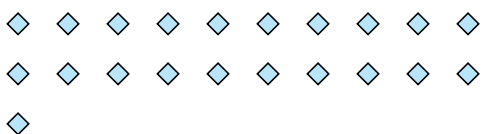
- Es) Ci sono 15 figure qui sotto. Quanti gruppi di 6 puoi creare con esse? Quanti ne restano fuori?



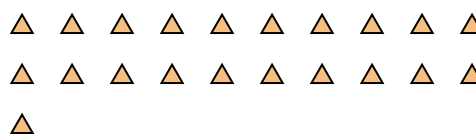
- 1) Ci sono 27 figure qui sotto. Quanti gruppi di 5 puoi creare con esse? Quanti ne restano fuori?




- 2) Ci sono 21 figure qui sotto. Quanti gruppi di 4 puoi creare con esse? Quanti ne restano fuori?



- 3) Ci sono 21 figure qui sotto. Quanti gruppi di 2 puoi creare con esse? Quanti ne restano fuori?



- 4) Ci sono 27 figure qui sotto. Quanti gruppi di 4 puoi creare con esse? Quanti ne restano fuori?



- 5) Ci sono 12 figure qui sotto. Quanti gruppi di 9 puoi creare con esse? Quanti ne restano fuori?



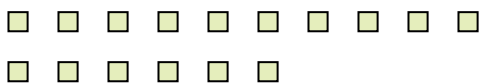
- 6) Ci sono 17 figure qui sotto. Quanti gruppi di 9 puoi creare con esse? Quanti ne restano fuori?



- 7) Ci sono 15 figure qui sotto. Quanti gruppi di 6 puoi creare con esse? Quanti ne restano fuori?



- 8) Ci sono 16 figure qui sotto. Quanti gruppi di 2 puoi creare con esse? Quanti ne restano fuori?



- 9) Ci sono 26 figure qui sotto. Quanti gruppi di 9 puoi creare con esse? Quanti ne restano fuori?

**Risposte**Es. 2 3

1. _____

2. _____

3. _____

4. _____

5. _____

6. _____

7. _____

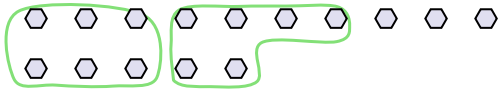
8. _____

9. _____

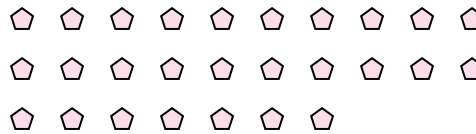


Segui l'esempio per rispondere alle domande.

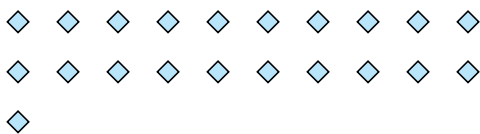
- Es) Ci sono 15 figure qui sotto. Quanti gruppi di 6 puoi creare con esse? Quanti ne restano fuori?



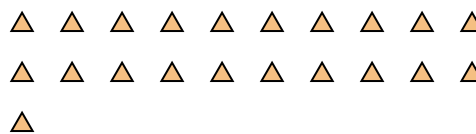
- 1) Ci sono 27 figure qui sotto. Quanti gruppi di 5 puoi creare con esse? Quanti ne restano fuori?




- 2) Ci sono 21 figure qui sotto. Quanti gruppi di 4 puoi creare con esse? Quanti ne restano fuori?



- 3) Ci sono 21 figure qui sotto. Quanti gruppi di 2 puoi creare con esse? Quanti ne restano fuori?



- 4) Ci sono 27 figure qui sotto. Quanti gruppi di 4 puoi creare con esse? Quanti ne restano fuori?



- 5) Ci sono 12 figure qui sotto. Quanti gruppi di 9 puoi creare con esse? Quanti ne restano fuori?



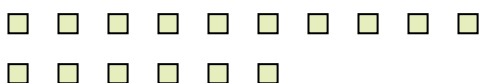
- 6) Ci sono 17 figure qui sotto. Quanti gruppi di 9 puoi creare con esse? Quanti ne restano fuori?



- 7) Ci sono 15 figure qui sotto. Quanti gruppi di 6 puoi creare con esse? Quanti ne restano fuori?



- 8) Ci sono 16 figure qui sotto. Quanti gruppi di 2 puoi creare con esse? Quanti ne restano fuori?



- 9) Ci sono 26 figure qui sotto. Quanti gruppi di 9 puoi creare con esse? Quanti ne restano fuori?

**Risposte**

Es.	<u>2</u>	<u>3</u>
1.	<u>5</u>	<u>2</u>
2.	<u>5</u>	<u>1</u>
3.	<u>10</u>	<u>1</u>
4.	<u>6</u>	<u>3</u>
5.	<u>1</u>	<u>3</u>
6.	<u>1</u>	<u>8</u>
7.	<u>2</u>	<u>3</u>
8.	<u>8</u>	<u>0</u>
9.	<u>2</u>	<u>8</u>