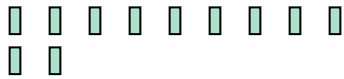




Usa il modello grafico per risolvere ogni problema.

Risposte

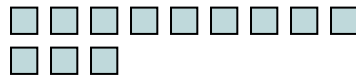
1) Ci sono 11 rettangoli qui sotto.



Togliendo 2, quante ne rimangono?

$11 - 2 = ?$

2) Ci sono 12 quadrati qui sotto.



Togliendo 8, quante ne rimangono?

$12 - 8 = ?$

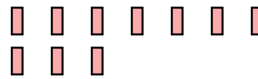
3) Ci sono 11 stelle qui sotto.



Togliendo 10, quante ne rimangono?

$11 - 10 = ?$

4) Ci sono 10 rettangoli qui sotto.



Togliendo 3, quante ne rimangono?

$10 - 3 = ?$

5) Ci sono 15 stelle qui sotto.



Togliendo 2, quante ne rimangono?

$15 - 2 = ?$

6) Ci sono 12 triangoli qui sotto.



Togliendo 7, quante ne rimangono?

$12 - 7 = ?$

7) Ci sono 3 quadrati qui sotto.



Togliendo 2, quante ne rimangono?

$3 - 2 = ?$

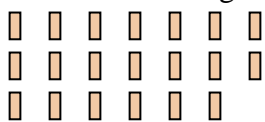
8) Ci sono 11 quadrati qui sotto.



Togliendo 1, quante ne rimangono?

$11 - 1 = ?$

9) Ci sono 20 rettangoli qui sotto.



Togliendo 9, quante ne rimangono?

$20 - 9 = ?$

10) Ci sono 11 rettangoli qui sotto.



Togliendo 9, quante ne rimangono?

$11 - 9 = ?$

1. _____

2. _____

3. _____

4. _____

5. _____

6. _____

7. _____

8. _____

9. _____

10. _____



Usa il modello grafico per risolvere ogni problema.

1) Ci sono 11 rettangoli qui sotto.



Togliendo 2, quante ne rimangono?

$11 - 2 = ?$

2) Ci sono 12 quadrati qui sotto.



Togliendo 8, quante ne rimangono?

$12 - 8 = ?$

3) Ci sono 11 stelle qui sotto.



Togliendo 10, quante ne rimangono?

$11 - 10 = ?$

4) Ci sono 10 rettangoli qui sotto.



Togliendo 3, quante ne rimangono?

$10 - 3 = ?$

5) Ci sono 15 stelle qui sotto.



Togliendo 2, quante ne rimangono?

$15 - 2 = ?$


6) Ci sono 12 triangoli qui sotto.



Togliendo 7, quante ne rimangono?

$12 - 7 = ?$

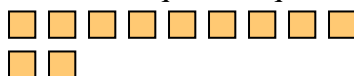
7) Ci sono 3 quadrati qui sotto.



Togliendo 2, quante ne rimangono?

$3 - 2 = ?$

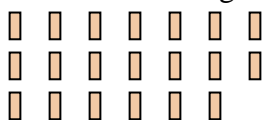
8) Ci sono 11 quadrati qui sotto.



Togliendo 1, quante ne rimangono?

$11 - 1 = ?$

9) Ci sono 20 rettangoli qui sotto.



Togliendo 9, quante ne rimangono?

$20 - 9 = ?$

10) Ci sono 11 rettangoli qui sotto.



Togliendo 9, quante ne rimangono?

$11 - 9 = ?$

Risposte1. 92. 43. 14. 75. 136. 57. 18. 109. 1110. 2