



Usa il modello grafico per risolvere ogni problema.

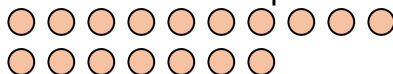
Risposte

- 1) Ci sono 8 pentagoni qui sotto.

Se togliessi 2, quante ne
rimarrebbero?

$8 - 2 = ?$

- 2) Ci sono 17 cerchi qui sotto.



Se togliessi 14, quante ne rimarrebbero?

$17 - 14 = ?$

- 3) Ci sono 4 pentagoni qui sotto.

Se togliessi 1, quante ne
rimarrebbero?

$4 - 1 = ?$

- 4) Ci sono 7 triangoli qui sotto.



Se togliessi 1, quante ne rimarrebbero?

$7 - 1 = ?$

- 5) Ci sono 7 quadrati qui sotto.

Se togliessi 3, quante ne
rimarrebbero?

$7 - 3 = ?$

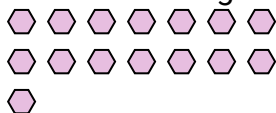
- 6) Ci sono 3 esagoni qui sotto.



Se togliessi 1, quante ne rimarrebbero?

$3 - 1 = ?$

- 7) Ci sono 15 esagoni qui sotto.

Se togliessi 10, quante ne
rimarrebbero?

$15 - 10 = ?$

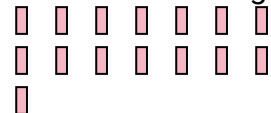
- 8) Ci sono 14 triangoli qui sotto.



Se togliessi 13, quante ne rimarrebbero?

$14 - 13 = ?$

- 9) Ci sono 15 rettangoli qui sotto.

Se togliessi 9, quante ne
rimarrebbero?

$15 - 9 = ?$

- 10) Ci sono 11 stelle qui sotto.



Se togliessi 10, quante ne rimarrebbero?

$11 - 10 = ?$

1. _____
2. _____
3. _____
4. _____
5. _____
6. _____
7. _____
8. _____
9. _____
10. _____



Usa il modello grafico per risolvere ogni problema.

Risposte

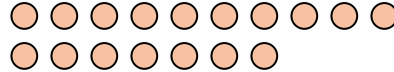
- 1) Ci sono 8 pentagoni qui sotto.



Se togliessi 2, quante ne rimarrebbero?

$$8 - 2 = ?$$

- 2) Ci sono 17 cerchi qui sotto.



Se togliessi 14, quante ne rimarrebbero?

$$17 - 14 = ?$$

- 3) Ci sono 4 pentagoni qui sotto.



Se togliessi 1, quante ne rimarrebbero?

$$4 - 1 = ?$$

- 4) Ci sono 7 triangoli qui sotto.



Se togliessi 1, quante ne rimarrebbero?

$$7 - 1 = ?$$

- 5) Ci sono 7 quadrati qui sotto.



Se togliessi 3, quante ne rimarrebbero?

$$7 - 3 = ?$$

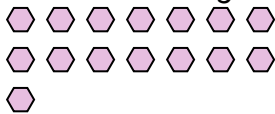
- 6) Ci sono 3 esagoni qui sotto.



Se togliessi 1, quante ne rimarrebbero?

$$3 - 1 = ?$$

- 7) Ci sono 15 esagoni qui sotto.



Se togliessi 10, quante ne rimarrebbero?

$$15 - 10 = ?$$

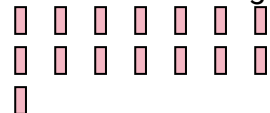
- 8) Ci sono 14 triangoli qui sotto.



Se togliessi 13, quante ne rimarrebbero?

$$14 - 13 = ?$$

- 9) Ci sono 15 rettangoli qui sotto.



Se togliessi 9, quante ne rimarrebbero?

$$15 - 9 = ?$$

- 10) Ci sono 11 stelle qui sotto.



Se togliessi 10, quante ne rimarrebbero?

$$11 - 10 = ?$$

1. 6
2. 3
3. 3
4. 6
5. 4
6. 2
7. 5
8. 1
9. 6
10. 1