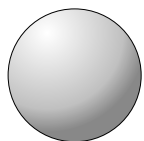




Usa il diagramma per identificare le facce, i vertici e le superfici delle forme

Risposte

1)



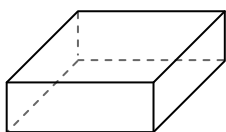
sfera

facce: _____

vertici: _____

spigoli: _____

2)



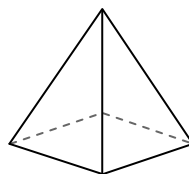
prisma rettangolare

facce: _____

vertici: _____

spigoli: _____

3)



piramide rettangolare

facce: _____

vertici: _____

spigoli: _____

1. _____

2. _____

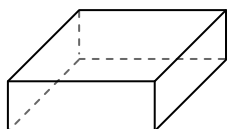
3. _____

4. _____

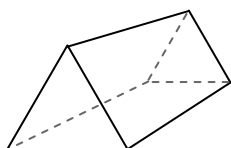
5. _____

6. _____

4)



prisma rettangolare



prisma triangolare

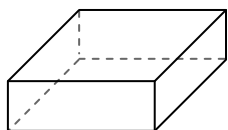
Quale forma ha più facce?

A. prisma rettangolare

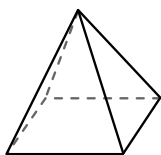
B. prisma triangolare

C. Entrambi hanno lo stesso numero di facce.

5)



prisma rettangolare



piramide rettangolare

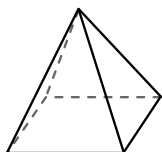
Quale forma ha più vertici?

A. prisma rettangolare

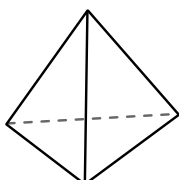
B. piramide rettangolare

C. Entrambi hanno lo stesso numero di vertici.

6)



piramide rettangolare



piramide triangolare

Quale forma ha più spigoli?

A. piramide rettangolare

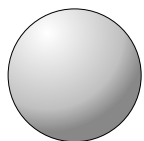
B. piramide triangolare

C. Entrambi hanno lo stesso numero di spigoli.



Usa il diagramma per identificare le facce, i vertici e le superfici delle forme

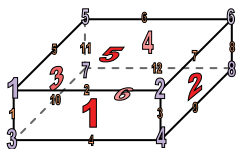
1)



sfera

facce: 1vertici: 0spigoli: 0

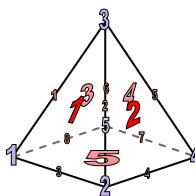
2)



prisma rettangolare

facce: 6vertici: 8spigoli: 12

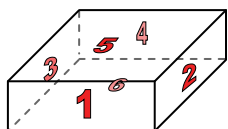
3)



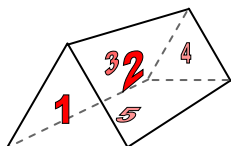
piramide rettangolare

facce: 5vertici: 5spigoli: 8**Risposte**1. 1, 0, 02. 6, 8, 123. 5, 5, 84. A5. A6. A

4)



prisma rettangolare



prisma triangolare

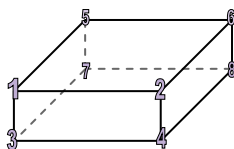
Quale forma ha più facce?

A. prisma rettangolare

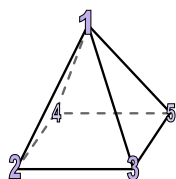
B. prisma triangolare

C. Entrambi hanno lo stesso numero di facce.

5)



prisma rettangolare



piramide rettangolare

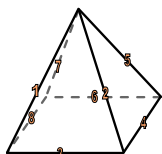
Quale forma ha più vertici?

A. prisma rettangolare

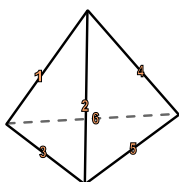
B. piramide rettangolare

C. Entrambi hanno lo stesso numero di vertici.

6)



piramide rettangolare



piramide triangolare

Quale forma ha più spigoli?

A. piramide rettangolare

B. piramide triangolare

C. Entrambi hanno lo stesso numero di spigoli.