

**Usa le doppie linee per risolvere i problemi.****Risposte**

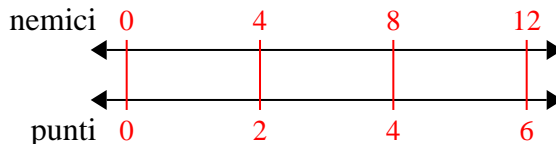
- | | | | |
|----|---|--|----------------------------------|
| 1) | In un videogioco, per ogni 4 nemici sconfitti, ottieni 2 punti. Se avessi sconfitto 12 nemici, quanti punti avresti guadagnato? | nemici
←————→
punti
←————→ | 1. _____
2. _____ |
| 2) | Il rapporto tra ragazzi e ragazze al parco era 5 su 4. Se c'erano 35 maschi, quante femmine c'erano? | ragazzi
←————→
ragazze
←————→ | 3. _____
4. _____
5. _____ |
| 3) | Un costruttore potrebbe ottenere 8 fogli di cartongesso per \$4. Se avesse comprato fogli 32, quanti soldi avrebbe speso? | tongesso
←————→
prezzo
←————→ | 6. _____
7. _____ |
| 4) | Un ristorante sciatto ha dato 5 tovaglioli per ogni 3 articoli ordinati. Se qualcuno ha acquistato articoli 9, quanti tovaglioli dovrebbe ricevere? | articolo
←————→
tovaglioli
←————→ | 8. _____ |
| 5) | Sul suo lettore MP3 per ogni canzone pop 9 Benedetta aveva anche 3 canzone country. Se ha 81 canzoni pop sul suo lettore MP3, quante canzoni country ha? | pop
←————→
nazione
←————→ | |
| 6) | A una raccolta fondi scolastica per ogni 7 scatole di cioccolato vendute guadagni 9 punti. Se dovessi vendere scatole 70, quanti punti avresti guadagnato? | scatole
←————→
punti
←————→ | |
| 7) | Una ricetta richiede 2 cucchiaini di condimento per ogni 5 lotti di pollo. Se hai 15 partite di pollo, quanti cucchiaini di condimento ti serviranno? | pollo
←————→
porzionatura
←————→ | |
| 8) | Una scatola di caramelle conteneva 3 pezzi di ciliegia per ogni 10 pezzi di limone. Se la scatola avesse 50 pezzi di limone, quanti pezzi di ciliegia ci sarebbero? | Limone
←————→
ciliegia
←————→ | |



Usa le doppie linee per risolvere i problemi.

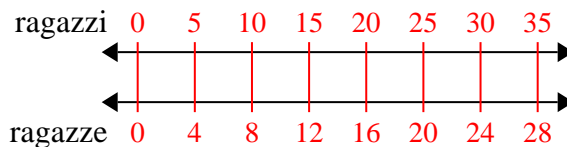
Risposte

1) In un videogioco, per ogni 4 nemici sconfitti, ottieni 2 punti. Se avessi sconfitto 12 nemici, quanti punti avresti guadagnato?



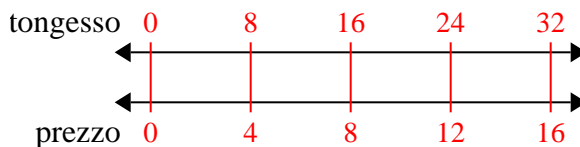
1. 6

2) Il rapporto tra ragazzi e ragazze al parco era 5 su 4. Se c'erano 35 maschi, quante femmine c'erano?



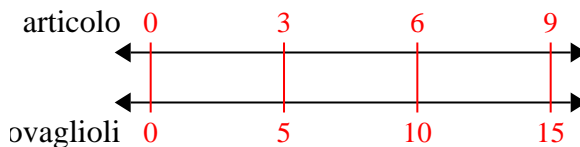
3. 16

3) Un costruttore potrebbe ottenere 8 fogli di cartongesso per \$4. Se avesse comprato fogli 32, quanti soldi avrebbe speso?



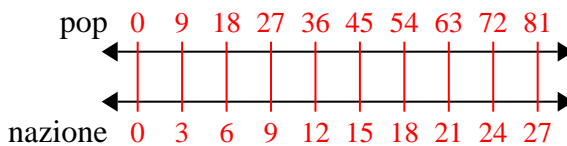
5. 27

4) Un ristorante sciatto ha dato 5 tovaglioli per ogni 3 articoli ordinati. Se qualcuno ha acquistato articoli 9, quanti tovaglioli dovrebbe ricevere?



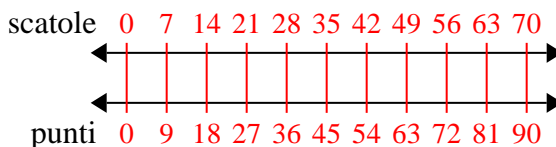
6. 90

5) Sul suo lettore MP3 per ogni canzone pop 9 Benedetta aveva anche 3 canzone country. Se ha 81 canzoni pop sul suo lettore MP3, quante canzoni country ha?



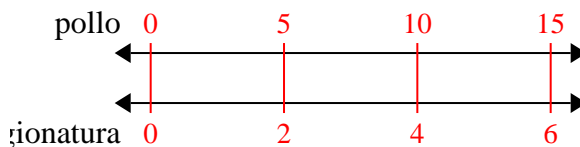
7. 6

6) A una raccolta fondi scolastica per ogni 7 scatole di cioccolato vendute guadagni 9 punti. Se dovessi vendere scatole 70, quanti punti avresti guadagnato?



8. 15

7) Una ricetta richiede 2 cucchiaini di condimento per ogni 5 lotti di pollo. Se hai 15 partite di pollo, quanti cucchiaini di condimento ti serviranno?



8) Una scatola di caramelle conteneva 3 pezzi di ciliegia per ogni 10 pezzi di limone. Se la scatola avesse 50 pezzi di limone, quanti pezzi di ciliegia ci sarebbero?

