

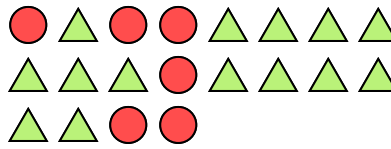


Risolvi ogni problema.

Es) Qual è il rapporto tra moons e hearts?



1) Qual è il rapporto tra triangoli e cerchi?




2) Qual è il rapporto tra moons e hearts?



3) Qual è il rapporto tra stelle e hearts?



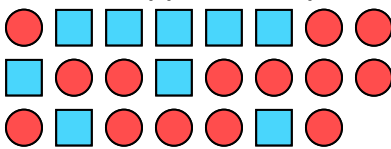
4) Qual è il rapporto tra cerchi e stelle?



5) Qual è il rapporto tra moons e hearts?



6) Qual è il rapporto tra quadrati e cerchi?



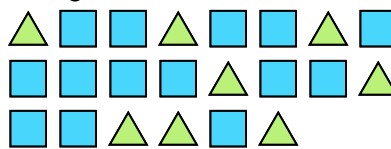
7) Qual è il rapporto tra triangoli e hearts?



8) Qual è il rapporto tra stelle e cerchi?




9) Qual è il rapporto tra quadrati e triangoli?



10) Qual è il rapporto tra quadrati e hearts?



11) Qual è il rapporto tra cerchi e hearts?

**Risposte**Es. **5:4**1. **14:6**2. **6:2**3. **6:10**4. **5:5**5. **2:9**6. **9:14**7. **8:5**8. **14:4**9. **14:8**10. **5:2**11. **14:14**