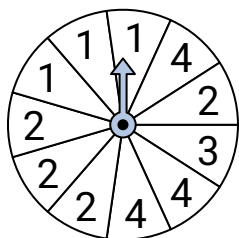
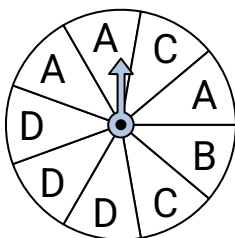


**Risolvi ogni problema.****Risposte**

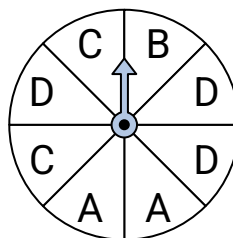
- 1) Su quale numero è meno probabile che si fermi la ruota?



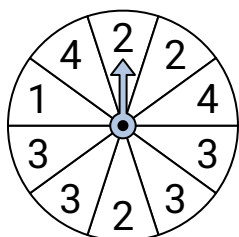
- 2) Quali due lettere hanno la stessa probabilità di uscire?



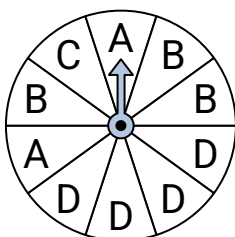
- 3) Quali due lettere hanno la stessa probabilità di uscire?



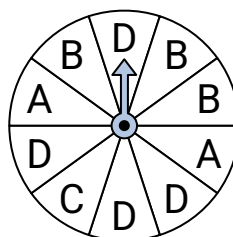
- 4) Su quale numero è più probabile che si fermi la ruota?



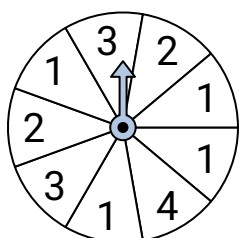
- 5) Su quale lettera è meno probabile che si fermi la ruota?



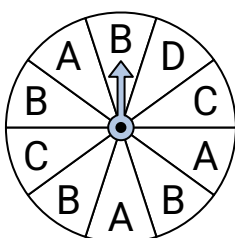
- 6) Su quale lettera è più probabile che si fermi la ruota?



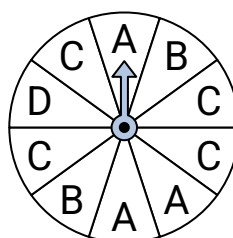
- 7) Su quale numero è più probabile che si fermi la ruota?



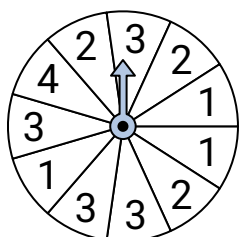
- 8) Su quale lettera è meno probabile che si fermi la ruota?



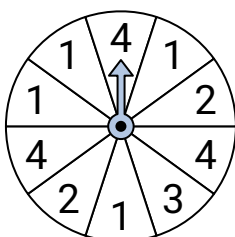
- 9) Su quale lettera è meno probabile che si fermi la ruota?



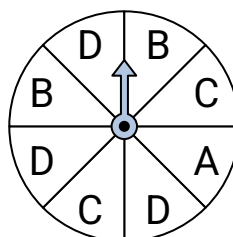
- 10) Su quale numero è meno probabile che si fermi la ruota?



- 11) Su quale numero è più probabile che si fermi la ruota?



- 12) Quali due lettere hanno la stessa probabilità di uscire?



1. _____

2. _____

3. _____

4. _____

5. _____

6. _____

7. _____

8. _____

9. _____

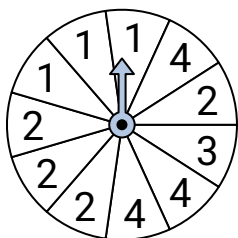
10. _____

11. _____

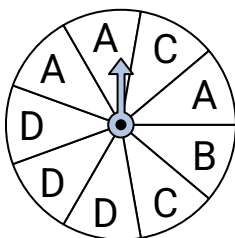
12. _____

**Risolvi ogni problema.**

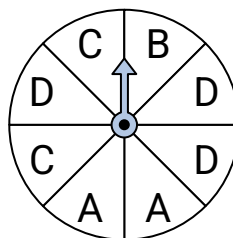
- 1) Su quale numero è meno probabile che si fermi la ruota?



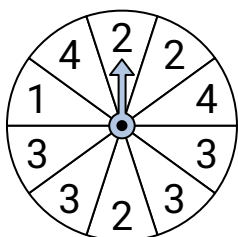
- 2) Quali due lettere hanno la stessa probabilità di uscire?



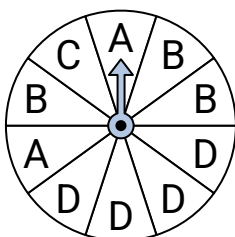
- 3) Quali due lettere hanno la stessa probabilità di uscire?



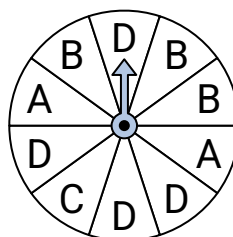
- 4) Su quale numero è più probabile che si fermi la ruota?



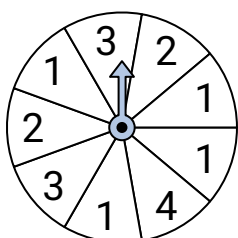
- 5) Su quale lettera è meno probabile che si fermi la ruota?



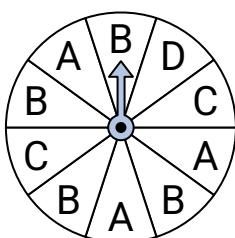
- 6) Su quale lettera è più probabile che si fermi la ruota?



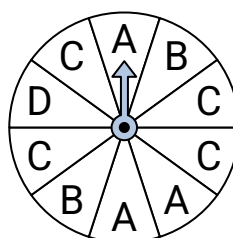
- 7) Su quale numero è più probabile che si fermi la ruota?



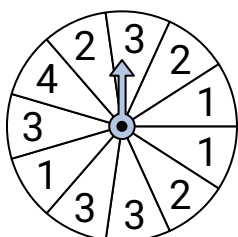
- 8) Su quale lettera è meno probabile che si fermi la ruota?



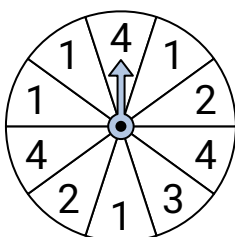
- 9) Su quale lettera è meno probabile che si fermi la ruota?



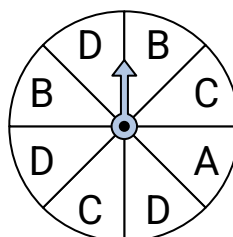
- 10) Su quale numero è meno probabile che si fermi la ruota?



- 11) Su quale numero è più probabile che si fermi la ruota?



- 12) Quali due lettere hanno la stessa probabilità di uscire?

**Risposte**

1. **3**
2. **A & D**
3. **A & C**
4. **3**
5. **C**
6. **D**
7. **1**
8. **D**
9. **D**
10. **4**
11. **1**
12. **B & C**