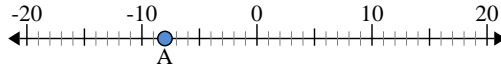




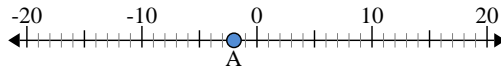
Usa la linea numerata per trovare il valore assoluto.

1) a. Qual è il valore di 'A'?



b. Quanto è distante 'A' da 0 (valore assoluto)?

2) a. Qual è il valore di 'A'?



b. Quanto è distante 'A' da 0 (valore assoluto)?

3) a. Qual è il valore di 'A'?



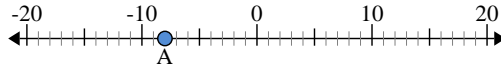
Risposte

1. _____
2. _____
3. _____
4. _____
5. _____
6. _____
7. _____
8. _____
9. _____
10. _____



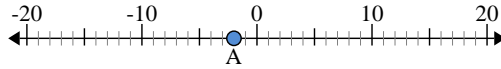
Usa la linea numerata per trovare il valore assoluto.

1) a. Qual è il valore di 'A'?



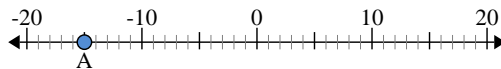
b. Quanto è distante 'A' da 0 (valore assoluto)?

2) a. Qual è il valore di 'A'?



b. Quanto è distante 'A' da 0 (valore assoluto)?

3) a. Qual è il valore di 'A'?



Risposte

1.	<u>-8</u>	<u>8</u>
2.	<u>-2</u>	<u>2</u>
3.	<u>-15</u>	<u>15</u>
4.	<u>-13</u>	<u>13</u>
5.	<u>20</u>	<u>20</u>
6.	<u>14</u>	<u>14</u>
7.	<u>0</u>	<u>0</u>
8.	<u>4</u>	<u>4</u>
9.	<u>19</u>	<u>19</u>
10.	<u>3</u>	<u>3</u>