



Usa la griglia per risolvere ogni problema.



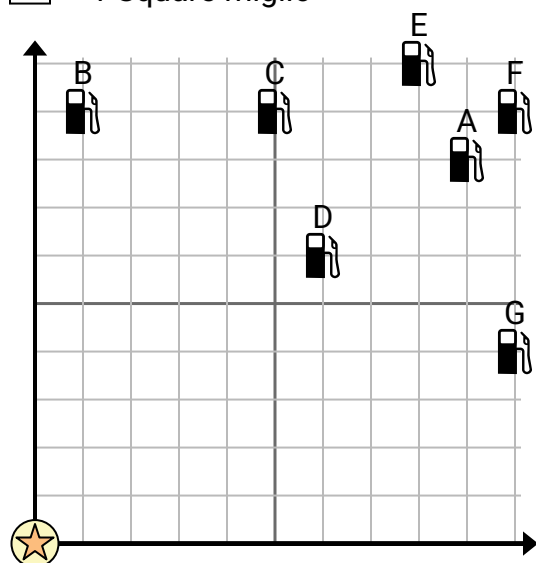
= Stazione di servizio



= Centro commerciale



= 1 Square miglio



- 1) Gli investitori volevano costruire una nuova stazione di servizio, ma volevano assicurarsi che fosse ad almeno 2 miglia da una stazione preesistente. Dovrebbero costruire una stazione di servizio 6 miglia a est e 4 miglia a nord del centro commerciale?
- 2) Quale distributore di benzina è più vicino al centro commerciale?
- 3) Quale distributore di benzina è più lontano dal centro commerciale?
- 4) Quale distributore di benzina è più lontano south? Stazione D o Stazione F?
- 5) Se dovessi andare a 10 miglia a est e 4 miglia a nord dal centro commerciale, in quale stazione di servizio finiresti?

Risposte

1. _____
2. _____
3. _____
4. _____
5. _____
6. _____
7. _____
8. _____
9. _____
10. _____

- 6) Una nuova nave voleva pescare, ma il capitano voleva assicurarsi che fossero ad almeno 2 miglia da un'altra nave. Se avesse navigato per 3 miglia a est e 7 miglia a nord, quel posto gli andrebbe bene?



= Nave



= Boa

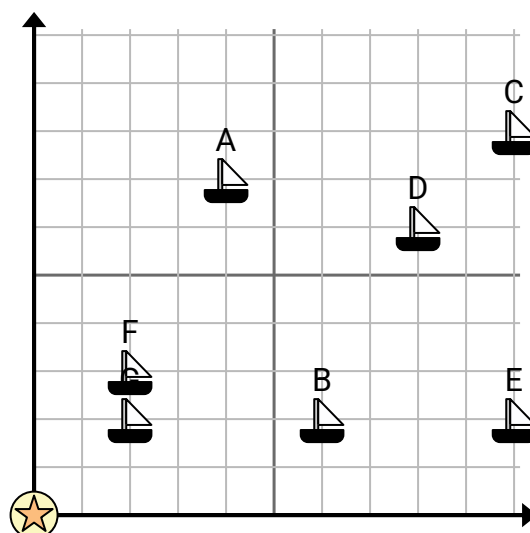


= 1 Square miglio

- 7) Quale nave è più vicina alla boa?

- 8) Quale nave è più lontana dalla boa?

- 9) Quale nave è più avanti east? Spedire B o spedire F?



- 10) Quale nave si trova a 8 miglia a est e 6 miglia a nord dalla boa?

**Usa la griglia per risolvere ogni problema.**

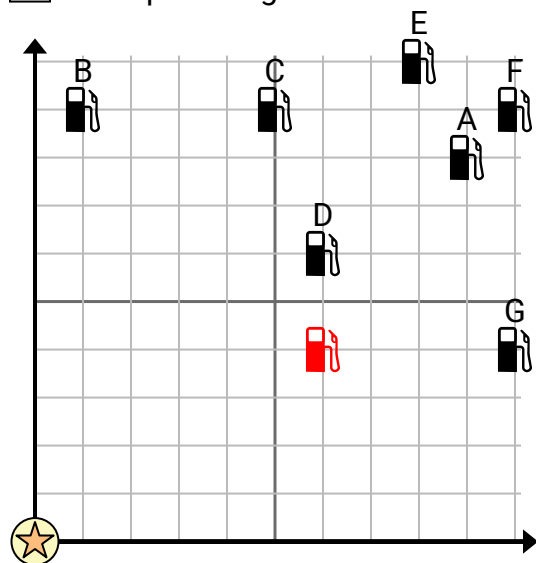
= Stazione di servizio



= Centro commerciale



= 1 Square miglio



- 1) Gli investitori volevano costruire una nuova stazione di servizio, ma volevano assicurarsi che fosse ad almeno 2 miglia da una stazione preesistente. Dovrebbero costruire una stazione di servizio 6 miglia a est e 4 miglia a nord del centro commerciale?
- 2) Quale distributore di benzina è più vicino al centro commerciale?
- 3) Quale distributore di benzina è più lontano dal centro commerciale?
- 4) Quale distributore di benzina è più lontano south? Stazione D o Stazione F?
- 5) Se dovessi andare a 10 miglia a est e 4 miglia a nord dal centro commerciale, in quale stazione di servizio finiresti?

Risposte

1. **si**
2. **D**
3. **F**
4. **D**
5. **G**
6. **no**
7. **G**
8. **C**
9. **B**
10. **D**

- 6) Una nuova nave voleva pescare, ma il capitano voleva assicurarsi che fossero ad almeno 2 miglia da un'altra nave. Se avesse navigato per 3 miglia a est e 7 miglia a nord, quel posto gli andrebbe bene?



= Nave



= Boa

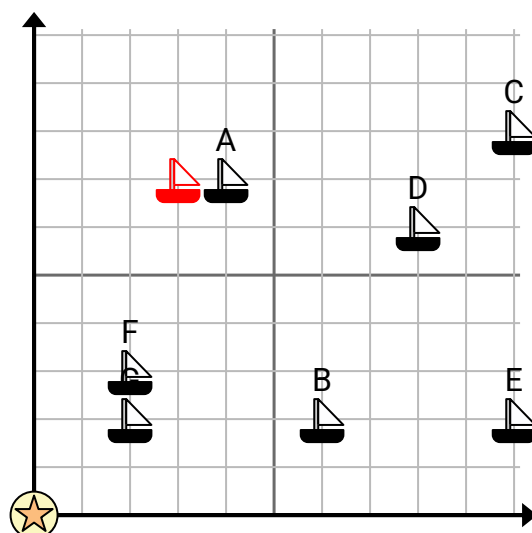


= 1 Square miglio

- 7) Quale nave è più vicina alla boa?

- 8) Quale nave è più lontana dalla boa?

- 9) Quale nave è più avanti east? Spedire B o spedire F?



- 10) Quale nave si trova a 8 miglia a est e 6 miglia a nord dalla boa?