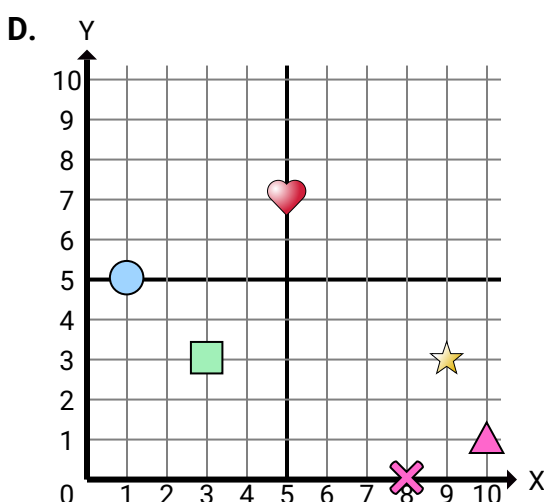
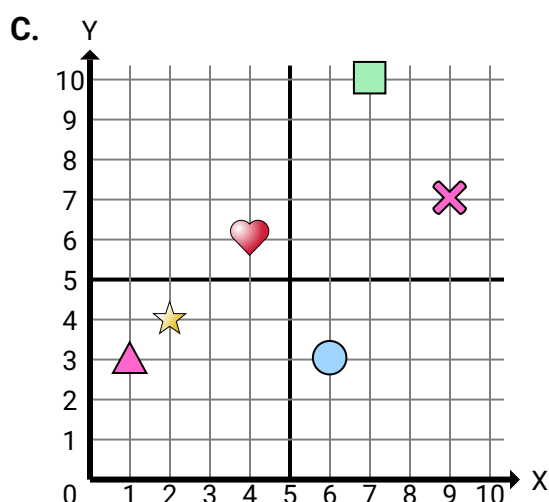
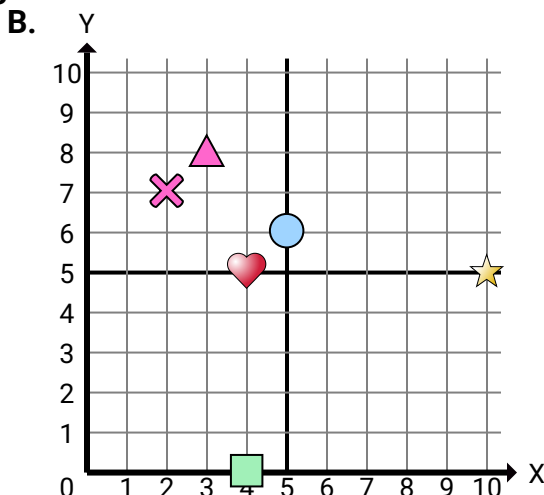
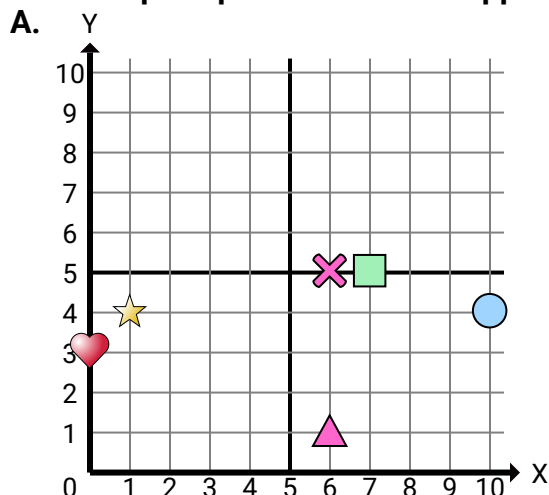




Indica a quale piano cartesiano appartengono le forme elencate nelle domande.

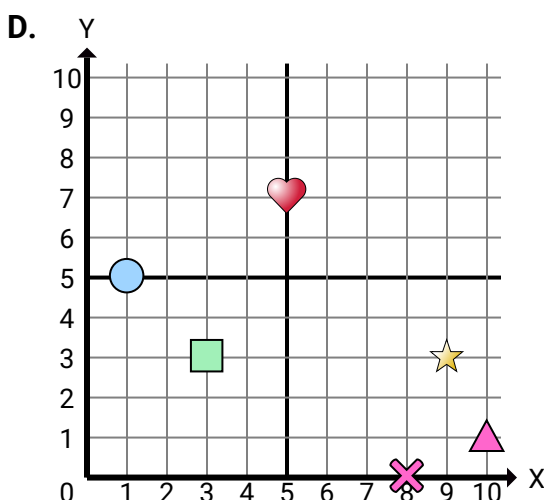
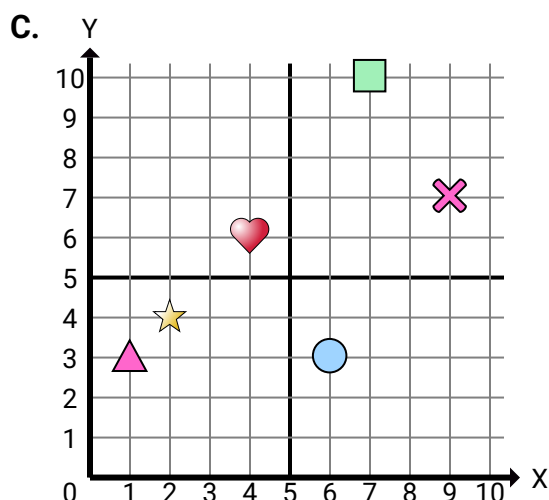
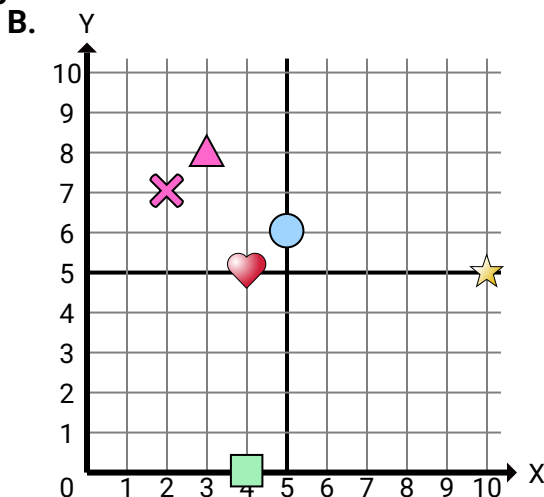
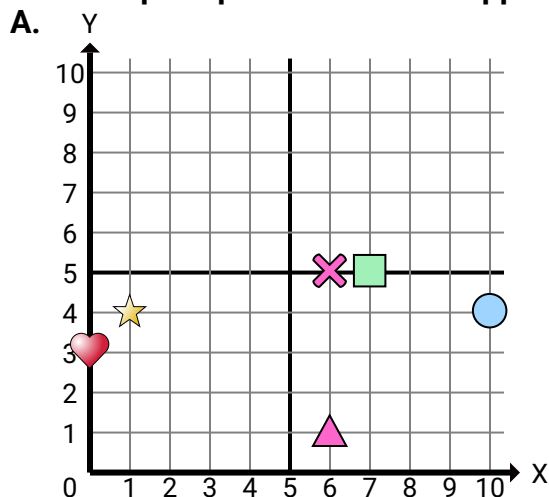
**Risposte**

1. _____
2. _____
3. _____
4. _____
5. _____
6. _____
7. _____
8. _____
9. _____
10. _____
11. _____
12. _____
13. _____
14. _____
15. _____

- 1) Quale piano cartesiano ha una figura a (1 , 4)?
- 2) Quale piano cartesiano ha una figura a (7 , 5)?
- 3) Quale piano cartesiano ha una figura a (10 , 4)?
- 4) Quale piano cartesiano ha una figura a (6 , 1)?
- 5) Quale piano cartesiano ha una figura a (6 , 5)?
- 6) Quale piano cartesiano ha una figura a (4 , 5)?
- 7) Quale piano cartesiano ha una figura a (10 , 5)?
- 8) Quale piano cartesiano ha una figura a (4 , 0)?
- 9) Quale piano cartesiano ha una figura a (5 , 6)?
- 10) Quale piano cartesiano ha una figura a (3 , 8)?
- 11) Quale piano cartesiano ha una figura a (2 , 7)?
- 12) Quale piano cartesiano ha una figura a (4 , 6)?
- 13) Quale piano cartesiano ha una figura a (2 , 4)?
- 14) Quale piano cartesiano ha una figura a (7 , 10)?
- 15) Quale piano cartesiano ha una figura a (6 , 3)?



Indica a quale piano cartesiano appartengono le forme elencate nelle domande.



- 1) Quale piano cartesiano ha una figura a (1 , 4)?
- 2) Quale piano cartesiano ha una figura a (7 , 5)?
- 3) Quale piano cartesiano ha una figura a (10 , 4)?
- 4) Quale piano cartesiano ha una figura a (6 , 1)?
- 5) Quale piano cartesiano ha una figura a (6 , 5)?
- 6) Quale piano cartesiano ha una figura a (4 , 5)?
- 7) Quale piano cartesiano ha una figura a (10 , 5)?
- 8) Quale piano cartesiano ha una figura a (4 , 0)?
- 9) Quale piano cartesiano ha una figura a (5 , 6)?
- 10) Quale piano cartesiano ha una figura a (3 , 8)?
- 11) Quale piano cartesiano ha una figura a (2 , 7)?
- 12) Quale piano cartesiano ha una figura a (4 , 6)?
- 13) Quale piano cartesiano ha una figura a (2 , 4)?
- 14) Quale piano cartesiano ha una figura a (7 , 10)?
- 15) Quale piano cartesiano ha una figura a (6 , 3)?

Risposte

1. **C**
2. **B**
3. **A**
4. **D**
5. **B**
6. **A**
7. **A**
8. **A**
9. **A**
10. **B**
11. **B**
12. **A**
13. **C**
14. **B**
15. **A**