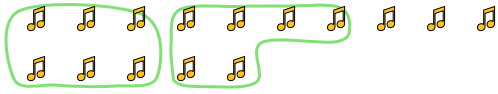




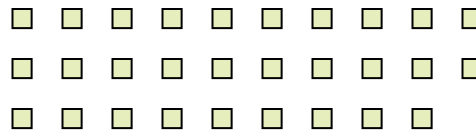
Segui l'esempio per rispondere alle domande.

Risposte

Es) Ci sono 15 figure qui sotto. Quanti gruppi di 6 puoi creare con esse? Quanti ne restano fuori?



1) Ci sono 29 figure qui sotto. Quanti gruppi di 8 puoi creare con esse? Quanti ne restano fuori?



Es. 2 3

1. _____

2. _____

3. _____

4. _____

5. _____

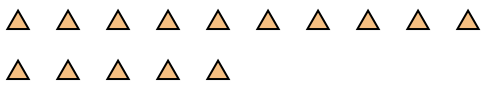
6. _____

7. _____

8. _____

9. _____

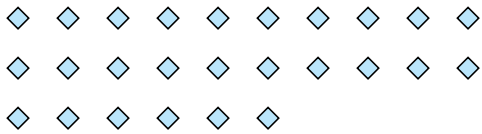
2) Ci sono 15 figure qui sotto. Quanti gruppi di 6 puoi creare con esse? Quanti ne restano fuori?



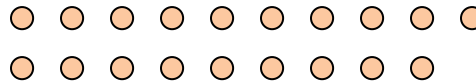
3) Ci sono 24 figure qui sotto. Quanti gruppi di 4 puoi creare con esse? Quanti ne restano fuori?



4) Ci sono 26 figure qui sotto. Quanti gruppi di 7 puoi creare con esse? Quanti ne restano fuori?



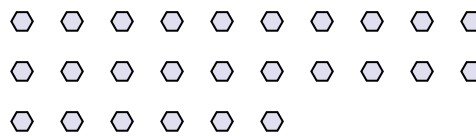
5) Ci sono 19 figure qui sotto. Quanti gruppi di 8 puoi creare con esse? Quanti ne restano fuori?




6) Ci sono 21 figure qui sotto. Quanti gruppi di 6 puoi creare con esse? Quanti ne restano fuori?



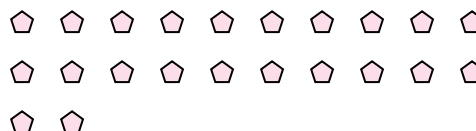
7) Ci sono 26 figure qui sotto. Quanti gruppi di 3 puoi creare con esse? Quanti ne restano fuori?



8) Ci sono 28 figure qui sotto. Quanti gruppi di 9 puoi creare con esse? Quanti ne restano fuori?



9) Ci sono 22 figure qui sotto. Quanti gruppi di 3 puoi creare con esse? Quanti ne restano fuori?



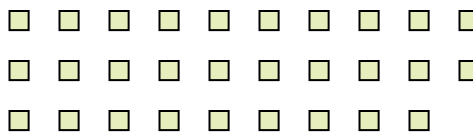


Segui l'esempio per rispondere alle domande.

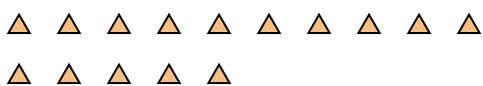
Es) Ci sono 15 figure qui sotto. Quanti gruppi di 6 puoi creare con esse? Quanti ne restano fuori?



1) Ci sono 29 figure qui sotto. Quanti gruppi di 8 puoi creare con esse? Quanti ne restano fuori?



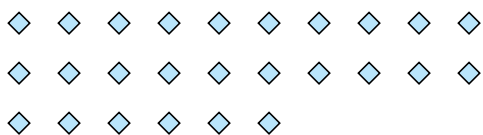
2) Ci sono 15 figure qui sotto. Quanti gruppi di 6 puoi creare con esse? Quanti ne restano fuori?



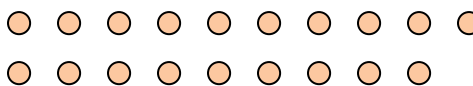
3) Ci sono 24 figure qui sotto. Quanti gruppi di 4 puoi creare con esse? Quanti ne restano fuori?



4) Ci sono 26 figure qui sotto. Quanti gruppi di 7 puoi creare con esse? Quanti ne restano fuori?



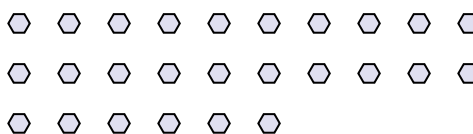
5) Ci sono 19 figure qui sotto. Quanti gruppi di 8 puoi creare con esse? Quanti ne restano fuori?




6) Ci sono 21 figure qui sotto. Quanti gruppi di 6 puoi creare con esse? Quanti ne restano fuori?



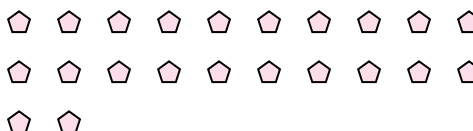
7) Ci sono 26 figure qui sotto. Quanti gruppi di 3 puoi creare con esse? Quanti ne restano fuori?



8) Ci sono 28 figure qui sotto. Quanti gruppi di 9 puoi creare con esse? Quanti ne restano fuori?



9) Ci sono 22 figure qui sotto. Quanti gruppi di 3 puoi creare con esse? Quanti ne restano fuori?



Risposte

Es.	<u>2</u>	<u>3</u>
1.	<u>3</u>	<u>5</u>
2.	<u>2</u>	<u>3</u>
3.	<u>6</u>	<u>0</u>
4.	<u>3</u>	<u>5</u>
5.	<u>2</u>	<u>3</u>
6.	<u>3</u>	<u>3</u>
7.	<u>8</u>	<u>2</u>
8.	<u>3</u>	<u>1</u>
9.	<u>7</u>	<u>1</u>