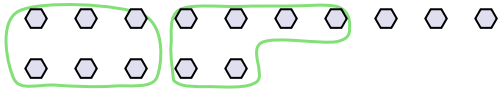




Segui l'esempio per rispondere alle domande.

Risposte

Es) Ci sono 15 figure qui sotto. Quanti gruppi di 6 puoi creare con esse? Quanti ne restano fuori?



1) Ci sono 26 figure qui sotto. Quanti gruppi di 3 puoi creare con esse? Quanti ne restano fuori?



Es. 2 3

1. _____

2. _____

3. _____

4. _____

5. _____

6. _____

7. _____


8. _____

9. _____

2) Ci sono 10 figure qui sotto. Quanti gruppi di 3 puoi creare con esse? Quanti ne restano fuori?



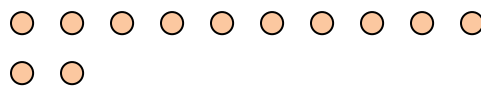
3) Ci sono 30 figure qui sotto. Quanti gruppi di 7 puoi creare con esse? Quanti ne restano fuori?



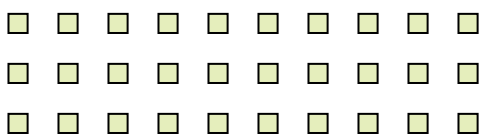
4) Ci sono 10 figure qui sotto. Quanti gruppi di 7 puoi creare con esse? Quanti ne restano fuori?



5) Ci sono 12 figure qui sotto. Quanti gruppi di 8 puoi creare con esse? Quanti ne restano fuori?




6) Ci sono 30 figure qui sotto. Quanti gruppi di 4 puoi creare con esse? Quanti ne restano fuori?



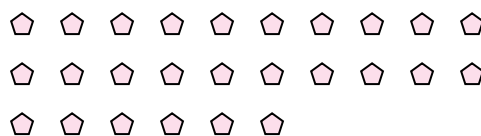
7) Ci sono 11 figure qui sotto. Quanti gruppi di 8 puoi creare con esse? Quanti ne restano fuori?



8) Ci sono 24 figure qui sotto. Quanti gruppi di 7 puoi creare con esse? Quanti ne restano fuori?



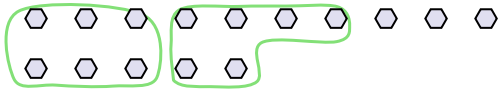
9) Ci sono 26 figure qui sotto. Quanti gruppi di 5 puoi creare con esse? Quanti ne restano fuori?





Segui l'esempio per rispondere alle domande.

Es) Ci sono 15 figure qui sotto. Quanti gruppi di 6 puoi creare con esse? Quanti ne restano fuori?




1) Ci sono 26 figure qui sotto. Quanti gruppi di 3 puoi creare con esse? Quanti ne restano fuori?



2) Ci sono 10 figure qui sotto. Quanti gruppi di 3 puoi creare con esse? Quanti ne restano fuori?



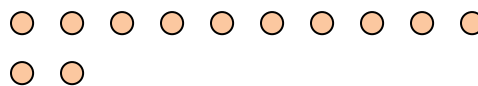
3) Ci sono 30 figure qui sotto. Quanti gruppi di 7 puoi creare con esse? Quanti ne restano fuori?



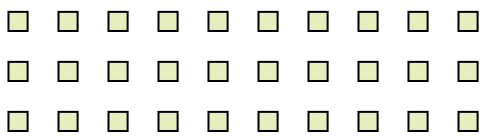
4) Ci sono 10 figure qui sotto. Quanti gruppi di 7 puoi creare con esse? Quanti ne restano fuori?



5) Ci sono 12 figure qui sotto. Quanti gruppi di 8 puoi creare con esse? Quanti ne restano fuori?




6) Ci sono 30 figure qui sotto. Quanti gruppi di 4 puoi creare con esse? Quanti ne restano fuori?



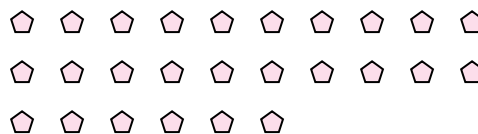
7) Ci sono 11 figure qui sotto. Quanti gruppi di 8 puoi creare con esse? Quanti ne restano fuori?



8) Ci sono 24 figure qui sotto. Quanti gruppi di 7 puoi creare con esse? Quanti ne restano fuori?



9) Ci sono 26 figure qui sotto. Quanti gruppi di 5 puoi creare con esse? Quanti ne restano fuori?



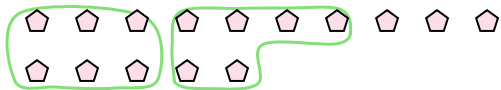
Risposte

Es.	<u>2</u>	<u>3</u>
1.	<u>8</u>	<u>2</u>
2.	<u>3</u>	<u>1</u>
3.	<u>4</u>	<u>2</u>
4.	<u>1</u>	<u>3</u>
5.	<u>1</u>	<u>4</u>
6.	<u>7</u>	<u>2</u>
7.	<u>1</u>	<u>3</u>
8.	<u>3</u>	<u>3</u>
9.	<u>5</u>	<u>1</u>



Segui l'esempio per rispondere alle domande.

Es) Ci sono 15 figure qui sotto. Quanti gruppi di 6 puoi creare con esse? Quanti ne restano fuori?



1) Ci sono 10 figure qui sotto. Quanti gruppi di 7 puoi creare con esse? Quanti ne restano fuori?



Risposte

Es. 2 3

1. _____

2. _____

3. _____

4. _____

5. _____

6. _____

7. _____

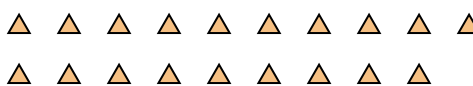
8. _____

9. _____

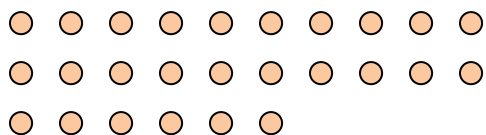
2) Ci sono 10 figure qui sotto. Quanti gruppi di 3 puoi creare con esse? Quanti ne restano fuori?



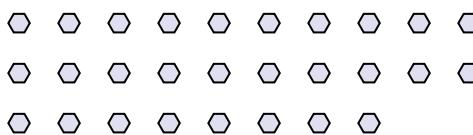
3) Ci sono 19 figure qui sotto. Quanti gruppi di 6 puoi creare con esse? Quanti ne restano fuori?



4) Ci sono 26 figure qui sotto. Quanti gruppi di 8 puoi creare con esse? Quanti ne restano fuori?




5) Ci sono 28 figure qui sotto. Quanti gruppi di 8 puoi creare con esse? Quanti ne restano fuori?



6) Ci sono 18 figure qui sotto. Quanti gruppi di 4 puoi creare con esse? Quanti ne restano fuori?



7) Ci sono 28 figure qui sotto. Quanti gruppi di 7 puoi creare con esse? Quanti ne restano fuori?



8) Ci sono 22 figure qui sotto. Quanti gruppi di 3 puoi creare con esse? Quanti ne restano fuori?



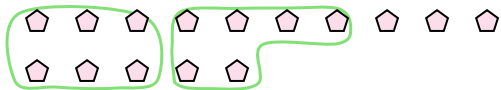
9) Ci sono 20 figure qui sotto. Quanti gruppi di 2 puoi creare con esse? Quanti ne restano fuori?





Segui l'esempio per rispondere alle domande.

Es) Ci sono 15 figure qui sotto. Quanti gruppi di 6 puoi creare con esse? Quanti ne restano fuori?



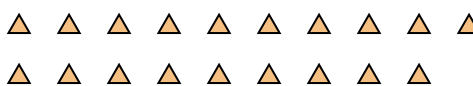
1) Ci sono 10 figure qui sotto. Quanti gruppi di 7 puoi creare con esse? Quanti ne restano fuori?



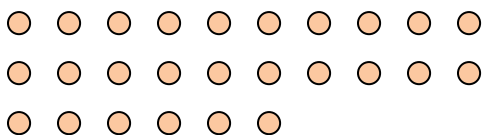
2) Ci sono 10 figure qui sotto. Quanti gruppi di 3 puoi creare con esse? Quanti ne restano fuori?



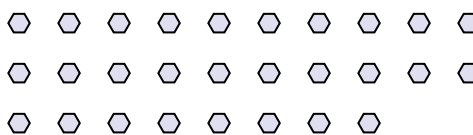
3) Ci sono 19 figure qui sotto. Quanti gruppi di 6 puoi creare con esse? Quanti ne restano fuori?



4) Ci sono 26 figure qui sotto. Quanti gruppi di 8 puoi creare con esse? Quanti ne restano fuori?




5) Ci sono 28 figure qui sotto. Quanti gruppi di 8 puoi creare con esse? Quanti ne restano fuori?



6) Ci sono 18 figure qui sotto. Quanti gruppi di 4 puoi creare con esse? Quanti ne restano fuori?



7) Ci sono 28 figure qui sotto. Quanti gruppi di 7 puoi creare con esse? Quanti ne restano fuori?



8) Ci sono 22 figure qui sotto. Quanti gruppi di 3 puoi creare con esse? Quanti ne restano fuori?



9) Ci sono 20 figure qui sotto. Quanti gruppi di 2 puoi creare con esse? Quanti ne restano fuori?



Risposte

Es. 2 3

1. 1 3

2. 3 1

3. 3 1

4. 3 2

5. 3 4

6. 4 2

7. 4 0

8. 7 1

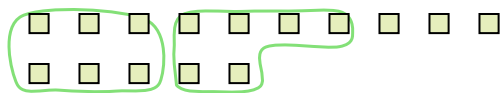
9. 10 0




Segui l'esempio per rispondere alle domande.

Risposte

Es) Ci sono 15 figure qui sotto. Quanti gruppi di 6 puoi creare con esse? Quanti ne restano fuori?



1) Ci sono 18 figure qui sotto. Quanti gruppi di 3 puoi creare con esse? Quanti ne restano fuori?



Es. 2 3

1. _____

2. _____

3. _____

4. _____

5. _____


6. _____

7. _____

8. _____

9. _____

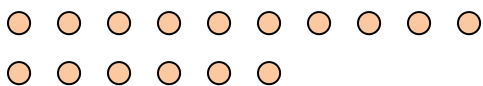
2) Ci sono 27 figure qui sotto. Quanti gruppi di 4 puoi creare con esse? Quanti ne restano fuori?



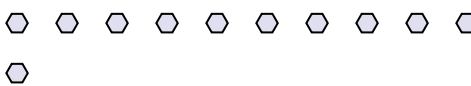
3) Ci sono 11 figure qui sotto. Quanti gruppi di 2 puoi creare con esse? Quanti ne restano fuori?



4) Ci sono 16 figure qui sotto. Quanti gruppi di 4 puoi creare con esse? Quanti ne restano fuori?



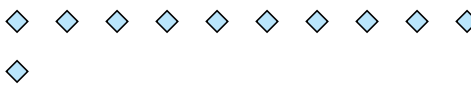
5) Ci sono 11 figure qui sotto. Quanti gruppi di 9 puoi creare con esse? Quanti ne restano fuori?




6) Ci sono 16 figure qui sotto. Quanti gruppi di 6 puoi creare con esse? Quanti ne restano fuori?



7) Ci sono 11 figure qui sotto. Quanti gruppi di 3 puoi creare con esse? Quanti ne restano fuori?



8) Ci sono 30 figure qui sotto. Quanti gruppi di 6 puoi creare con esse? Quanti ne restano fuori?



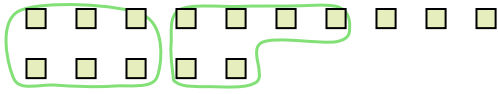
9) Ci sono 20 figure qui sotto. Quanti gruppi di 4 puoi creare con esse? Quanti ne restano fuori?






Segui l'esempio per rispondere alle domande.

Es) Ci sono 15 figure qui sotto. Quanti gruppi di 6 puoi creare con esse? Quanti ne restano fuori?



1) Ci sono 18 figure qui sotto. Quanti gruppi di 3 puoi creare con esse? Quanti ne restano fuori?



Risposte

Es. 2 3

1. 6 0

2. 6 3

3. 5 1

4. 4 0

5. 1 2


6. 2 4

7. 3 2

8. 5 0

9. 5 0

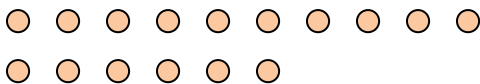
2) Ci sono 27 figure qui sotto. Quanti gruppi di 4 puoi creare con esse? Quanti ne restano fuori?



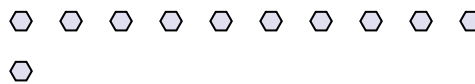
3) Ci sono 11 figure qui sotto. Quanti gruppi di 2 puoi creare con esse? Quanti ne restano fuori?



4) Ci sono 16 figure qui sotto. Quanti gruppi di 4 puoi creare con esse? Quanti ne restano fuori?



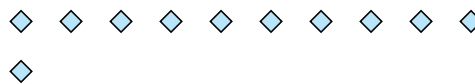
5) Ci sono 11 figure qui sotto. Quanti gruppi di 9 puoi creare con esse? Quanti ne restano fuori?




6) Ci sono 16 figure qui sotto. Quanti gruppi di 6 puoi creare con esse? Quanti ne restano fuori?



7) Ci sono 11 figure qui sotto. Quanti gruppi di 3 puoi creare con esse? Quanti ne restano fuori?



8) Ci sono 30 figure qui sotto. Quanti gruppi di 6 puoi creare con esse? Quanti ne restano fuori?



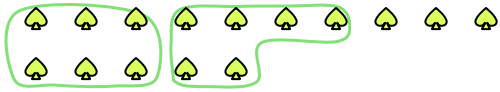
9) Ci sono 20 figure qui sotto. Quanti gruppi di 4 puoi creare con esse? Quanti ne restano fuori?






Segui l'esempio per rispondere alle domande.

Es) Ci sono 15 figure qui sotto. Quanti gruppi di 6 puoi creare con esse? Quanti ne restano fuori?



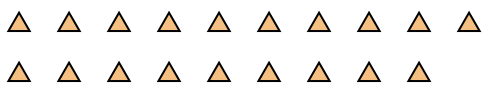
1) Ci sono 26 figure qui sotto. Quanti gruppi di 3 puoi creare con esse? Quanti ne restano fuori?



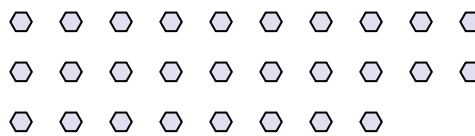
Risposte

Es.	<u> 2 </u>	<u> 3 </u>
1.	_____	_____
2.	_____	_____
3.	_____	_____
4.	_____	_____
5.	_____	_____
6.	_____	_____
7.	_____	_____
8.	_____	_____
9.	_____	_____


2) Ci sono 19 figure qui sotto. Quanti gruppi di 6 puoi creare con esse? Quanti ne restano fuori?



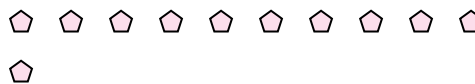
3) Ci sono 28 figure qui sotto. Quanti gruppi di 8 puoi creare con esse? Quanti ne restano fuori?



4) Ci sono 22 figure qui sotto. Quanti gruppi di 4 puoi creare con esse? Quanti ne restano fuori?



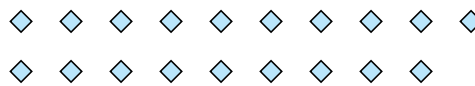
5) Ci sono 11 figure qui sotto. Quanti gruppi di 8 puoi creare con esse? Quanti ne restano fuori?




6) Ci sono 19 figure qui sotto. Quanti gruppi di 2 puoi creare con esse? Quanti ne restano fuori?



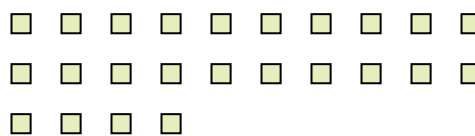
7) Ci sono 19 figure qui sotto. Quanti gruppi di 2 puoi creare con esse? Quanti ne restano fuori?



8) Ci sono 23 figure qui sotto. Quanti gruppi di 9 puoi creare con esse? Quanti ne restano fuori?



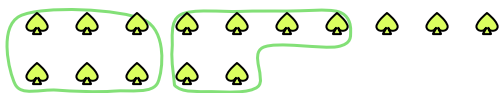
9) Ci sono 24 figure qui sotto. Quanti gruppi di 9 puoi creare con esse? Quanti ne restano fuori?






Segui l'esempio per rispondere alle domande.


Es) Ci sono 15 figure qui sotto. Quanti gruppi di 6 puoi creare con esse? Quanti ne restano fuori?



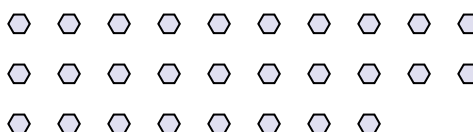
1) Ci sono 26 figure qui sotto. Quanti gruppi di 3 puoi creare con esse? Quanti ne restano fuori?




2) Ci sono 19 figure qui sotto. Quanti gruppi di 6 puoi creare con esse? Quanti ne restano fuori?



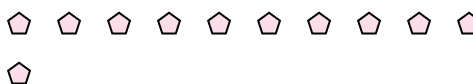
3) Ci sono 28 figure qui sotto. Quanti gruppi di 8 puoi creare con esse? Quanti ne restano fuori?



4) Ci sono 22 figure qui sotto. Quanti gruppi di 4 puoi creare con esse? Quanti ne restano fuori?



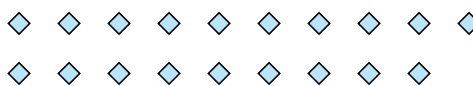
5) Ci sono 11 figure qui sotto. Quanti gruppi di 8 puoi creare con esse? Quanti ne restano fuori?




6) Ci sono 19 figure qui sotto. Quanti gruppi di 2 puoi creare con esse? Quanti ne restano fuori?



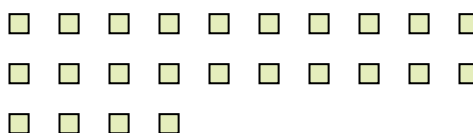
7) Ci sono 19 figure qui sotto. Quanti gruppi di 2 puoi creare con esse? Quanti ne restano fuori?



8) Ci sono 23 figure qui sotto. Quanti gruppi di 9 puoi creare con esse? Quanti ne restano fuori?



9) Ci sono 24 figure qui sotto. Quanti gruppi di 9 puoi creare con esse? Quanti ne restano fuori?



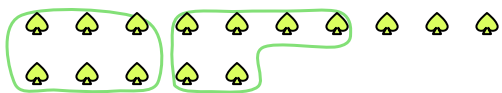
Risposte

	2	3
Es.	<u>2</u>	<u>3</u>
1.	<u>8</u>	<u>2</u>
2.	<u>3</u>	<u>1</u>
3.	<u>3</u>	<u>4</u>
4.	<u>5</u>	<u>2</u>
5.	<u>1</u>	<u>3</u>
6.	<u>9</u>	<u>1</u>
7.	<u>9</u>	<u>1</u>
8.	<u>2</u>	<u>5</u>
9.	<u>2</u>	<u>6</u>



Segui l'esempio per rispondere alle domande.

Es) Ci sono 15 figure qui sotto. Quanti gruppi di 6 puoi creare con esse? Quanti ne restano fuori?



1) Ci sono 30 figure qui sotto. Quanti gruppi di 5 puoi creare con esse? Quanti ne restano fuori?



Risposte

Es. 2 3

1. _____

2. _____

3. _____

4. _____

5. _____

6. _____

7. _____

8. _____

9. _____

2) Ci sono 15 figure qui sotto. Quanti gruppi di 7 puoi creare con esse? Quanti ne restano fuori?



3) Ci sono 11 figure qui sotto. Quanti gruppi di 6 puoi creare con esse? Quanti ne restano fuori?



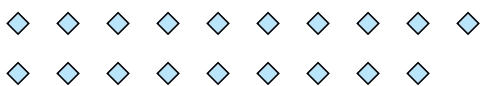
4) Ci sono 16 figure qui sotto. Quanti gruppi di 3 puoi creare con esse? Quanti ne restano fuori?



5) Ci sono 11 figure qui sotto. Quanti gruppi di 2 puoi creare con esse? Quanti ne restano fuori?




6) Ci sono 19 figure qui sotto. Quanti gruppi di 5 puoi creare con esse? Quanti ne restano fuori?



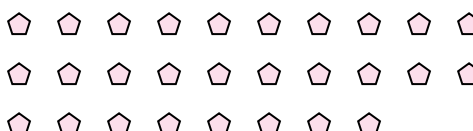
7) Ci sono 13 figure qui sotto. Quanti gruppi di 9 puoi creare con esse? Quanti ne restano fuori?



8) Ci sono 27 figure qui sotto. Quanti gruppi di 9 puoi creare con esse? Quanti ne restano fuori?



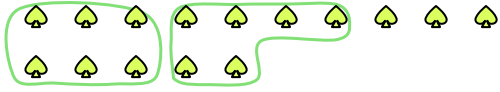
9) Ci sono 28 figure qui sotto. Quanti gruppi di 2 puoi creare con esse? Quanti ne restano fuori?





Segui l'esempio per rispondere alle domande.

Es) Ci sono 15 figure qui sotto. Quanti gruppi di 6 puoi creare con esse? Quanti ne restano fuori?



1) Ci sono 30 figure qui sotto. Quanti gruppi di 5 puoi creare con esse? Quanti ne restano fuori?




2) Ci sono 15 figure qui sotto. Quanti gruppi di 7 puoi creare con esse? Quanti ne restano fuori?



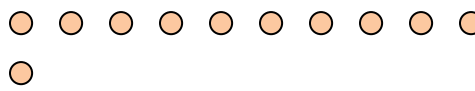
3) Ci sono 11 figure qui sotto. Quanti gruppi di 6 puoi creare con esse? Quanti ne restano fuori?



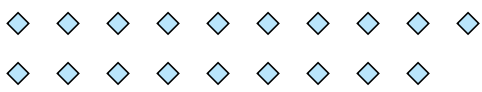
4) Ci sono 16 figure qui sotto. Quanti gruppi di 3 puoi creare con esse? Quanti ne restano fuori?



5) Ci sono 11 figure qui sotto. Quanti gruppi di 2 puoi creare con esse? Quanti ne restano fuori?




6) Ci sono 19 figure qui sotto. Quanti gruppi di 5 puoi creare con esse? Quanti ne restano fuori?



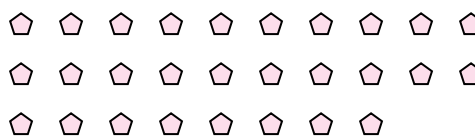
7) Ci sono 13 figure qui sotto. Quanti gruppi di 9 puoi creare con esse? Quanti ne restano fuori?



8) Ci sono 27 figure qui sotto. Quanti gruppi di 9 puoi creare con esse? Quanti ne restano fuori?



9) Ci sono 28 figure qui sotto. Quanti gruppi di 2 puoi creare con esse? Quanti ne restano fuori?



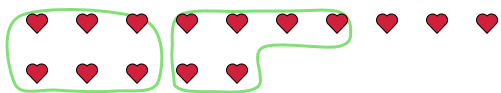
Risposte

	<u>2</u>	<u>3</u>
Es.	<u>2</u>	<u>3</u>
1.	<u>6</u>	<u>0</u>
2.	<u>2</u>	<u>1</u>
3.	<u>1</u>	<u>5</u>
4.	<u>5</u>	<u>1</u>
5.	<u>5</u>	<u>1</u>
6.	<u>3</u>	<u>4</u>
7.	<u>1</u>	<u>4</u>
8.	<u>3</u>	<u>0</u>
9.	<u>14</u>	<u>0</u>



Segui l'esempio per rispondere alle domande.

Es) Ci sono 15 figure qui sotto. Quanti gruppi di 6 puoi creare con esse? Quanti ne restano fuori?



1) Ci sono 17 figure qui sotto. Quanti gruppi di 2 puoi creare con esse? Quanti ne restano fuori?



Risposte

Es. 2 3

1. _____

2. _____

3. _____

4. _____

5. _____

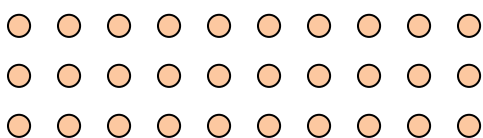
6. _____

7. _____

8. _____

9. _____

2) Ci sono 30 figure qui sotto. Quanti gruppi di 9 puoi creare con esse? Quanti ne restano fuori?



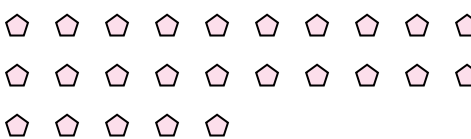
3) Ci sono 13 figure qui sotto. Quanti gruppi di 3 puoi creare con esse? Quanti ne restano fuori?



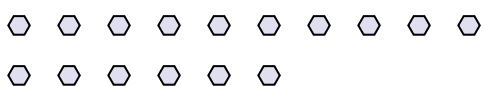
4) Ci sono 10 figure qui sotto. Quanti gruppi di 7 puoi creare con esse? Quanti ne restano fuori?



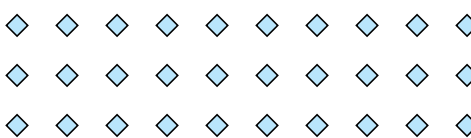
5) Ci sono 25 figure qui sotto. Quanti gruppi di 2 puoi creare con esse? Quanti ne restano fuori?



6) Ci sono 16 figure qui sotto. Quanti gruppi di 8 puoi creare con esse? Quanti ne restano fuori?



7) Ci sono 30 figure qui sotto. Quanti gruppi di 9 puoi creare con esse? Quanti ne restano fuori?



8) Ci sono 15 figure qui sotto. Quanti gruppi di 4 puoi creare con esse? Quanti ne restano fuori?



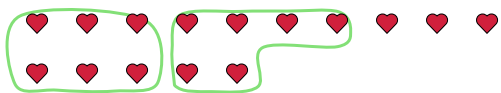
9) Ci sono 26 figure qui sotto. Quanti gruppi di 7 puoi creare con esse? Quanti ne restano fuori?





Segui l'esempio per rispondere alle domande.

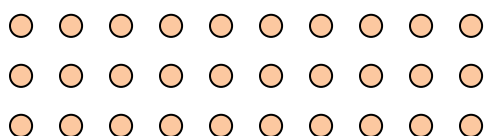
Es) Ci sono 15 figure qui sotto. Quanti gruppi di 6 puoi creare con esse? Quanti ne restano fuori?



1) Ci sono 17 figure qui sotto. Quanti gruppi di 2 puoi creare con esse? Quanti ne restano fuori?



2) Ci sono 30 figure qui sotto. Quanti gruppi di 9 puoi creare con esse? Quanti ne restano fuori?



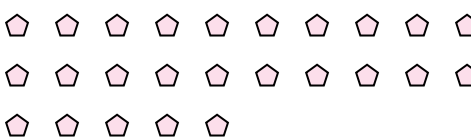
3) Ci sono 13 figure qui sotto. Quanti gruppi di 3 puoi creare con esse? Quanti ne restano fuori?



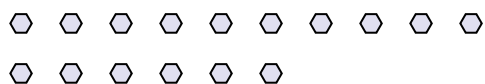
4) Ci sono 10 figure qui sotto. Quanti gruppi di 7 puoi creare con esse? Quanti ne restano fuori?



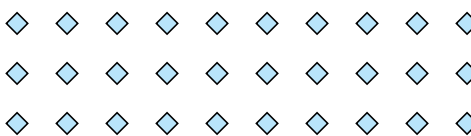
5) Ci sono 25 figure qui sotto. Quanti gruppi di 2 puoi creare con esse? Quanti ne restano fuori?



6) Ci sono 16 figure qui sotto. Quanti gruppi di 8 puoi creare con esse? Quanti ne restano fuori?



7) Ci sono 30 figure qui sotto. Quanti gruppi di 9 puoi creare con esse? Quanti ne restano fuori?



8) Ci sono 15 figure qui sotto. Quanti gruppi di 4 puoi creare con esse? Quanti ne restano fuori?



9) Ci sono 26 figure qui sotto. Quanti gruppi di 7 puoi creare con esse? Quanti ne restano fuori?



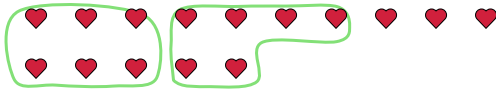
Risposte

	2	3
Es.	<u>2</u>	<u>3</u>
1.	<u>8</u>	<u>1</u>
2.	<u>3</u>	<u>3</u>
3.	<u>4</u>	<u>1</u>
4.	<u>1</u>	<u>3</u>
5.	<u>12</u>	<u>1</u>
6.	<u>2</u>	<u>0</u>
7.	<u>3</u>	<u>3</u>
8.	<u>3</u>	<u>3</u>
9.	<u>3</u>	<u>5</u>

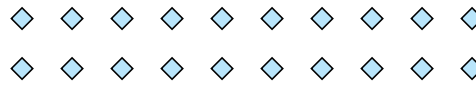


Segui l'esempio per rispondere alle domande.

Es) Ci sono 15 figure qui sotto. Quanti gruppi di 6 puoi creare con esse? Quanti ne restano fuori?



1) Ci sono 20 figure qui sotto. Quanti gruppi di 8 puoi creare con esse? Quanti ne restano fuori?



Risposte

Es. 2 3

1. _____

2. _____

3. _____

4. _____

5. _____

6. _____

7. _____

8. _____

9. _____

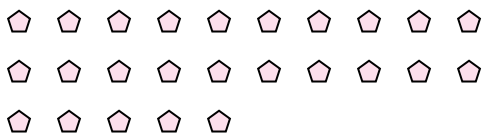
2) Ci sono 10 figure qui sotto. Quanti gruppi di 6 puoi creare con esse? Quanti ne restano fuori?



3) Ci sono 13 figure qui sotto. Quanti gruppi di 5 puoi creare con esse? Quanti ne restano fuori?



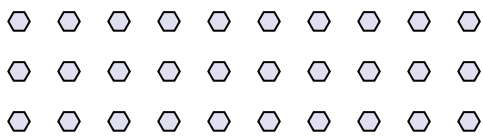
4) Ci sono 25 figure qui sotto. Quanti gruppi di 5 puoi creare con esse? Quanti ne restano fuori?



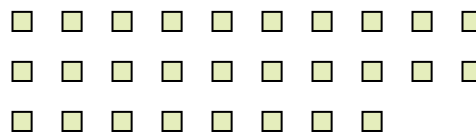
5) Ci sono 13 figure qui sotto. Quanti gruppi di 3 puoi creare con esse? Quanti ne restano fuori?




6) Ci sono 30 figure qui sotto. Quanti gruppi di 4 puoi creare con esse? Quanti ne restano fuori?



7) Ci sono 28 figure qui sotto. Quanti gruppi di 2 puoi creare con esse? Quanti ne restano fuori?



8) Ci sono 26 figure qui sotto. Quanti gruppi di 6 puoi creare con esse? Quanti ne restano fuori?



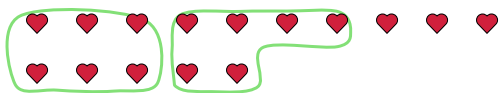
9) Ci sono 20 figure qui sotto. Quanti gruppi di 7 puoi creare con esse? Quanti ne restano fuori?



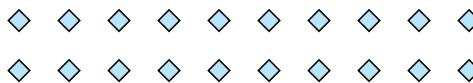


Segui l'esempio per rispondere alle domande.

Es) Ci sono 15 figure qui sotto. Quanti gruppi di 6 puoi creare con esse? Quanti ne restano fuori?



1) Ci sono 20 figure qui sotto. Quanti gruppi di 8 puoi creare con esse? Quanti ne restano fuori?



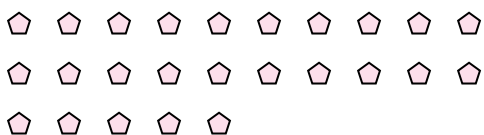
2) Ci sono 10 figure qui sotto. Quanti gruppi di 6 puoi creare con esse? Quanti ne restano fuori?



3) Ci sono 13 figure qui sotto. Quanti gruppi di 5 puoi creare con esse? Quanti ne restano fuori?



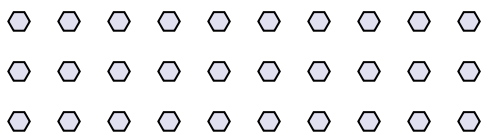
4) Ci sono 25 figure qui sotto. Quanti gruppi di 5 puoi creare con esse? Quanti ne restano fuori?



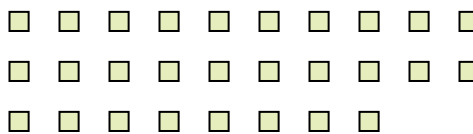
5) Ci sono 13 figure qui sotto. Quanti gruppi di 3 puoi creare con esse? Quanti ne restano fuori?




6) Ci sono 30 figure qui sotto. Quanti gruppi di 4 puoi creare con esse? Quanti ne restano fuori?



7) Ci sono 28 figure qui sotto. Quanti gruppi di 2 puoi creare con esse? Quanti ne restano fuori?



8) Ci sono 26 figure qui sotto. Quanti gruppi di 6 puoi creare con esse? Quanti ne restano fuori?



9) Ci sono 20 figure qui sotto. Quanti gruppi di 7 puoi creare con esse? Quanti ne restano fuori?



Risposte

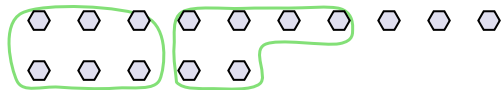
Es.	<u>2</u>	<u>3</u>
1.	<u>2</u>	<u>4</u>
2.	<u>1</u>	<u>4</u>
3.	<u>2</u>	<u>3</u>
4.	<u>5</u>	<u>0</u>
5.	<u>4</u>	<u>1</u>
6.	<u>7</u>	<u>2</u>
7.	<u>14</u>	<u>0</u>
8.	<u>4</u>	<u>2</u>
9.	<u>2</u>	<u>6</u>



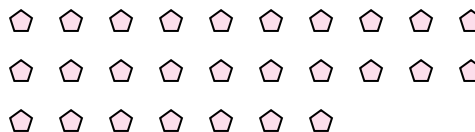
Segui l'esempio per rispondere alle domande.

Risposte

Es) Ci sono 15 figure qui sotto. Quanti gruppi di 6 puoi creare con esse? Quanti ne restano fuori?



1) Ci sono 27 figure qui sotto. Quanti gruppi di 5 puoi creare con esse? Quanti ne restano fuori?



Es. 2 3

1. _____

2. _____

3. _____

4. _____

5. _____

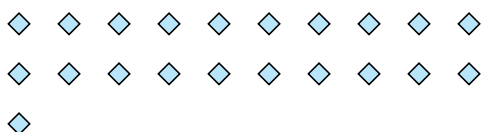
6. _____

7. _____

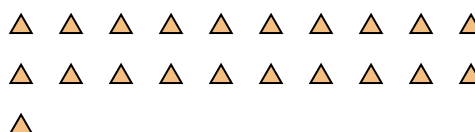
8. _____

9. _____


2) Ci sono 21 figure qui sotto. Quanti gruppi di 4 puoi creare con esse? Quanti ne restano fuori?



3) Ci sono 21 figure qui sotto. Quanti gruppi di 2 puoi creare con esse? Quanti ne restano fuori?



4) Ci sono 27 figure qui sotto. Quanti gruppi di 4 puoi creare con esse? Quanti ne restano fuori?



5) Ci sono 12 figure qui sotto. Quanti gruppi di 9 puoi creare con esse? Quanti ne restano fuori?



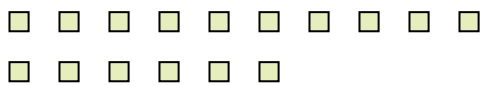
6) Ci sono 17 figure qui sotto. Quanti gruppi di 9 puoi creare con esse? Quanti ne restano fuori?




7) Ci sono 15 figure qui sotto. Quanti gruppi di 6 puoi creare con esse? Quanti ne restano fuori?



8) Ci sono 16 figure qui sotto. Quanti gruppi di 2 puoi creare con esse? Quanti ne restano fuori?



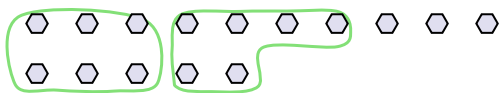
9) Ci sono 26 figure qui sotto. Quanti gruppi di 9 puoi creare con esse? Quanti ne restano fuori?



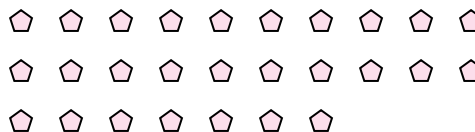


Segui l'esempio per rispondere alle domande.

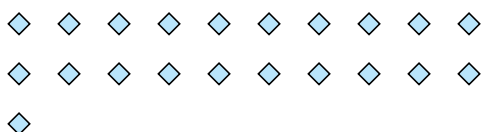
Es) Ci sono 15 figure qui sotto. Quanti gruppi di 6 puoi creare con esse? Quanti ne restano fuori?



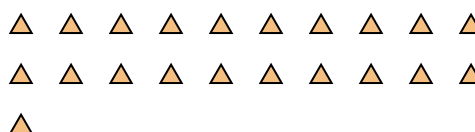
1) Ci sono 27 figure qui sotto. Quanti gruppi di 5 puoi creare con esse? Quanti ne restano fuori?




2) Ci sono 21 figure qui sotto. Quanti gruppi di 4 puoi creare con esse? Quanti ne restano fuori?



3) Ci sono 21 figure qui sotto. Quanti gruppi di 2 puoi creare con esse? Quanti ne restano fuori?



4) Ci sono 27 figure qui sotto. Quanti gruppi di 4 puoi creare con esse? Quanti ne restano fuori?



5) Ci sono 12 figure qui sotto. Quanti gruppi di 9 puoi creare con esse? Quanti ne restano fuori?



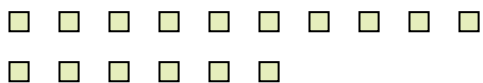
6) Ci sono 17 figure qui sotto. Quanti gruppi di 9 puoi creare con esse? Quanti ne restano fuori?



7) Ci sono 15 figure qui sotto. Quanti gruppi di 6 puoi creare con esse? Quanti ne restano fuori?



8) Ci sono 16 figure qui sotto. Quanti gruppi di 2 puoi creare con esse? Quanti ne restano fuori?



9) Ci sono 26 figure qui sotto. Quanti gruppi di 9 puoi creare con esse? Quanti ne restano fuori?



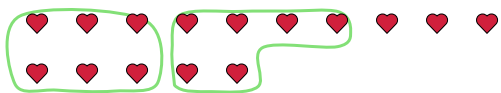
Risposte

Es.	<u>2</u>	<u>3</u>
1.	<u>5</u>	<u>2</u>
2.	<u>5</u>	<u>1</u>
3.	<u>10</u>	<u>1</u>
4.	<u>6</u>	<u>3</u>
5.	<u>1</u>	<u>3</u>
6.	<u>1</u>	<u>8</u>
7.	<u>2</u>	<u>3</u>
8.	<u>8</u>	<u>0</u>
9.	<u>2</u>	<u>8</u>

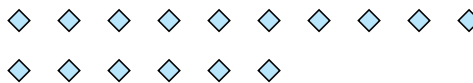


Segui l'esempio per rispondere alle domande.

Es) Ci sono 15 figure qui sotto. Quanti gruppi di 6 puoi creare con esse? Quanti ne restano fuori?



1) Ci sono 16 figure qui sotto. Quanti gruppi di 7 puoi creare con esse? Quanti ne restano fuori?



Risposte

Es. 2 3

1. _____

2. _____

3. _____

4. _____

5. _____

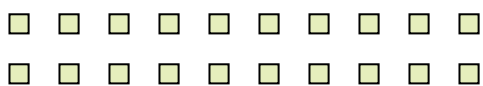
6. _____

7. _____

8. _____

9. _____

2) Ci sono 20 figure qui sotto. Quanti gruppi di 6 puoi creare con esse? Quanti ne restano fuori?



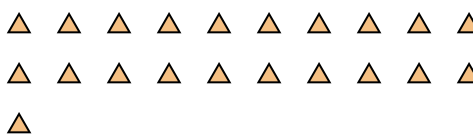
3) Ci sono 21 figure qui sotto. Quanti gruppi di 4 puoi creare con esse? Quanti ne restano fuori?



4) Ci sono 11 figure qui sotto. Quanti gruppi di 9 puoi creare con esse? Quanti ne restano fuori?



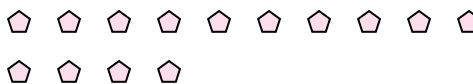
5) Ci sono 21 figure qui sotto. Quanti gruppi di 6 puoi creare con esse? Quanti ne restano fuori?



6) Ci sono 12 figure qui sotto. Quanti gruppi di 3 puoi creare con esse? Quanti ne restano fuori?



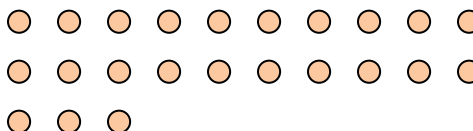
7) Ci sono 14 figure qui sotto. Quanti gruppi di 5 puoi creare con esse? Quanti ne restano fuori?



8) Ci sono 12 figure qui sotto. Quanti gruppi di 7 puoi creare con esse? Quanti ne restano fuori?



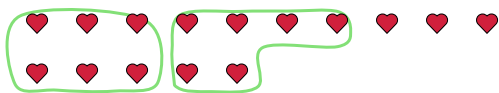
9) Ci sono 23 figure qui sotto. Quanti gruppi di 5 puoi creare con esse? Quanti ne restano fuori?



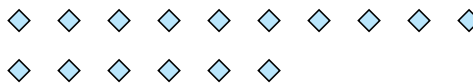


Segui l'esempio per rispondere alle domande.

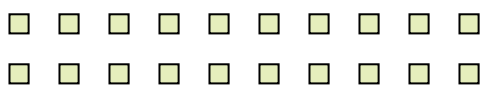
Es) Ci sono 15 figure qui sotto. Quanti gruppi di 6 puoi creare con esse? Quanti ne restano fuori?



1) Ci sono 16 figure qui sotto. Quanti gruppi di 7 puoi creare con esse? Quanti ne restano fuori?



2) Ci sono 20 figure qui sotto. Quanti gruppi di 6 puoi creare con esse? Quanti ne restano fuori?



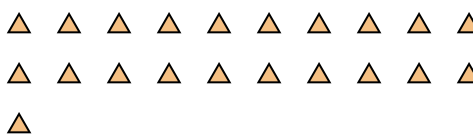
3) Ci sono 21 figure qui sotto. Quanti gruppi di 4 puoi creare con esse? Quanti ne restano fuori?



4) Ci sono 11 figure qui sotto. Quanti gruppi di 9 puoi creare con esse? Quanti ne restano fuori?



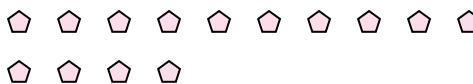
5) Ci sono 21 figure qui sotto. Quanti gruppi di 6 puoi creare con esse? Quanti ne restano fuori?



6) Ci sono 12 figure qui sotto. Quanti gruppi di 3 puoi creare con esse? Quanti ne restano fuori?



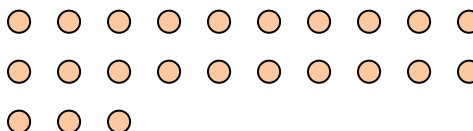
7) Ci sono 14 figure qui sotto. Quanti gruppi di 5 puoi creare con esse? Quanti ne restano fuori?



8) Ci sono 12 figure qui sotto. Quanti gruppi di 7 puoi creare con esse? Quanti ne restano fuori?



9) Ci sono 23 figure qui sotto. Quanti gruppi di 5 puoi creare con esse? Quanti ne restano fuori?



Risposte

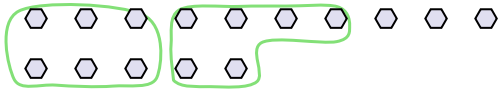
Es.	<u>2</u>	<u>3</u>
1.	<u>2</u>	<u>2</u>
2.	<u>3</u>	<u>2</u>
3.	<u>5</u>	<u>1</u>
4.	<u>1</u>	<u>2</u>
5.	<u>3</u>	<u>3</u>
6.	<u>4</u>	<u>0</u>
7.	<u>2</u>	<u>4</u>
8.	<u>1</u>	<u>5</u>
9.	<u>4</u>	<u>3</u>



Segui l'esempio per rispondere alle domande.

Risposte

Es) Ci sono 15 figure qui sotto. Quanti gruppi di 6 puoi creare con esse? Quanti ne restano fuori?



1) Ci sono 14 figure qui sotto. Quanti gruppi di 6 puoi creare con esse? Quanti ne restano fuori?



Es. 2 3

1. _____

2. _____

3. _____

4. _____

5. _____

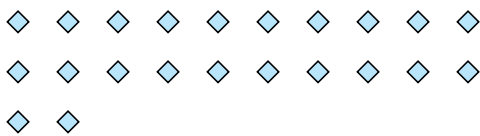
6. _____

7. _____


8. _____

9. _____

2) Ci sono 22 figure qui sotto. Quanti gruppi di 7 puoi creare con esse? Quanti ne restano fuori?



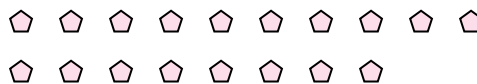
3) Ci sono 16 figure qui sotto. Quanti gruppi di 4 puoi creare con esse? Quanti ne restano fuori?




4) Ci sono 18 figure qui sotto. Quanti gruppi di 8 puoi creare con esse? Quanti ne restano fuori?



5) Ci sono 18 figure qui sotto. Quanti gruppi di 4 puoi creare con esse? Quanti ne restano fuori?




6) Ci sono 13 figure qui sotto. Quanti gruppi di 6 puoi creare con esse? Quanti ne restano fuori?



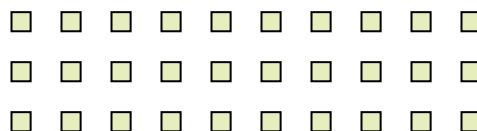
7) Ci sono 17 figure qui sotto. Quanti gruppi di 5 puoi creare con esse? Quanti ne restano fuori?



8) Ci sono 29 figure qui sotto. Quanti gruppi di 9 puoi creare con esse? Quanti ne restano fuori?



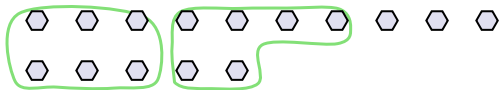
9) Ci sono 30 figure qui sotto. Quanti gruppi di 8 puoi creare con esse? Quanti ne restano fuori?





Segui l'esempio per rispondere alle domande.

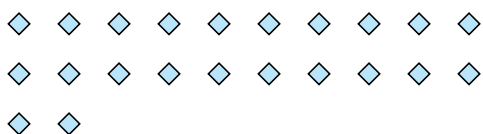
Es) Ci sono 15 figure qui sotto. Quanti gruppi di 6 puoi creare con esse? Quanti ne restano fuori?



1) Ci sono 14 figure qui sotto. Quanti gruppi di 6 puoi creare con esse? Quanti ne restano fuori?



2) Ci sono 22 figure qui sotto. Quanti gruppi di 7 puoi creare con esse? Quanti ne restano fuori?



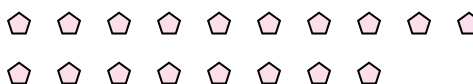
3) Ci sono 16 figure qui sotto. Quanti gruppi di 4 puoi creare con esse? Quanti ne restano fuori?




4) Ci sono 18 figure qui sotto. Quanti gruppi di 8 puoi creare con esse? Quanti ne restano fuori?



5) Ci sono 18 figure qui sotto. Quanti gruppi di 4 puoi creare con esse? Quanti ne restano fuori?




6) Ci sono 13 figure qui sotto. Quanti gruppi di 6 puoi creare con esse? Quanti ne restano fuori?



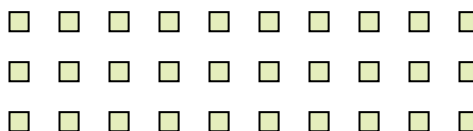
7) Ci sono 17 figure qui sotto. Quanti gruppi di 5 puoi creare con esse? Quanti ne restano fuori?



8) Ci sono 29 figure qui sotto. Quanti gruppi di 9 puoi creare con esse? Quanti ne restano fuori?



9) Ci sono 30 figure qui sotto. Quanti gruppi di 8 puoi creare con esse? Quanti ne restano fuori?



Risposte

	2	3
Es.	<u>2</u>	<u>3</u>
1.	<u>2</u>	<u>2</u>
2.	<u>3</u>	<u>1</u>
3.	<u>4</u>	<u>0</u>
4.	<u>2</u>	<u>2</u>
5.	<u>4</u>	<u>2</u>
6.	<u>2</u>	<u>1</u>
7.	<u>3</u>	<u>2</u>
8.	<u>3</u>	<u>2</u>
9.	<u>3</u>	<u>6</u>