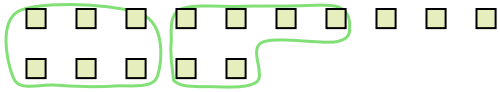





Segui l'esempio per rispondere alle domande.

Risposte

Es) Ci sono 15 figure qui sotto. Quanti gruppi di 6 puoi creare con esse? Quanti ne restano fuori?




1) Ci sono 18 figure qui sotto. Quanti gruppi di 3 puoi creare con esse? Quanti ne restano fuori?



Es. 2 3

- 1. _____
- 2. _____
- 3. _____
- 4. _____
- 5. _____
- 6. _____
- 7. _____
- 8. _____
- 9. _____

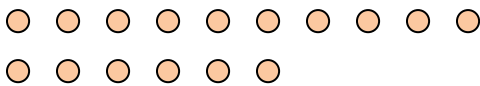
2) Ci sono 27 figure qui sotto. Quanti gruppi di 4 puoi creare con esse? Quanti ne restano fuori?



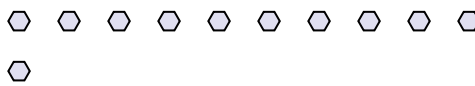
3) Ci sono 11 figure qui sotto. Quanti gruppi di 2 puoi creare con esse? Quanti ne restano fuori?



4) Ci sono 16 figure qui sotto. Quanti gruppi di 4 puoi creare con esse? Quanti ne restano fuori?



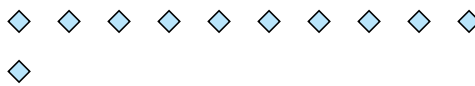
5) Ci sono 11 figure qui sotto. Quanti gruppi di 9 puoi creare con esse? Quanti ne restano fuori?




6) Ci sono 16 figure qui sotto. Quanti gruppi di 6 puoi creare con esse? Quanti ne restano fuori?



7) Ci sono 11 figure qui sotto. Quanti gruppi di 3 puoi creare con esse? Quanti ne restano fuori?



8) Ci sono 30 figure qui sotto. Quanti gruppi di 6 puoi creare con esse? Quanti ne restano fuori?



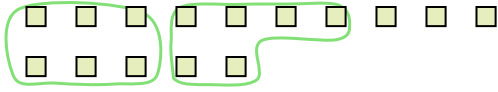
9) Ci sono 20 figure qui sotto. Quanti gruppi di 4 puoi creare con esse? Quanti ne restano fuori?






Segui l'esempio per rispondere alle domande.

Es) Ci sono 15 figure qui sotto. Quanti gruppi di 6 puoi creare con esse? Quanti ne restano fuori?



1) Ci sono 18 figure qui sotto. Quanti gruppi di 3 puoi creare con esse? Quanti ne restano fuori?



Risposte

Es. 2 3

1. 6 0

2. 6 3

3. 5 1

4. 4 0

5. 1 2


6. 2 4

7. 3 2

8. 5 0

9. 5 0

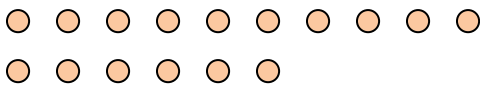
2) Ci sono 27 figure qui sotto. Quanti gruppi di 4 puoi creare con esse? Quanti ne restano fuori?



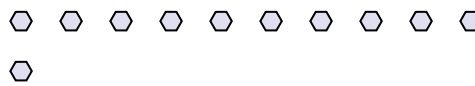
3) Ci sono 11 figure qui sotto. Quanti gruppi di 2 puoi creare con esse? Quanti ne restano fuori?



4) Ci sono 16 figure qui sotto. Quanti gruppi di 4 puoi creare con esse? Quanti ne restano fuori?



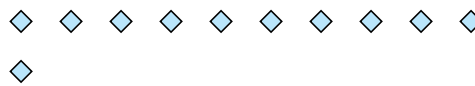
5) Ci sono 11 figure qui sotto. Quanti gruppi di 9 puoi creare con esse? Quanti ne restano fuori?




6) Ci sono 16 figure qui sotto. Quanti gruppi di 6 puoi creare con esse? Quanti ne restano fuori?



7) Ci sono 11 figure qui sotto. Quanti gruppi di 3 puoi creare con esse? Quanti ne restano fuori?



8) Ci sono 30 figure qui sotto. Quanti gruppi di 6 puoi creare con esse? Quanti ne restano fuori?



9) Ci sono 20 figure qui sotto. Quanti gruppi di 4 puoi creare con esse? Quanti ne restano fuori?

