

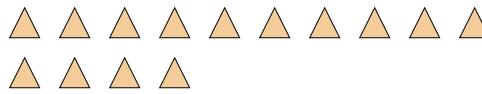


Segui l'esempio per rispondere alle domande.

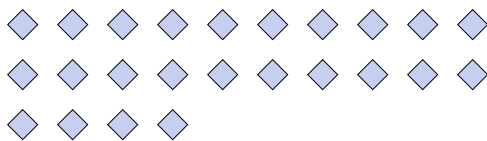
- Es) Ci sono 15 forme qui sotto. Quanti gruppi di 6 puoi farne? Quante ne avanzano?




- 1) Ci sono 14 forme qui sotto. Quanti gruppi di 2 puoi farne? Quante ne avanzano?




- 2) Ci sono 24 forme qui sotto. Quanti gruppi di 2 puoi farne? Quante ne avanzano?



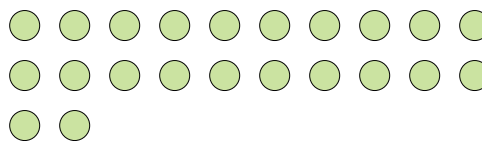
- 3) Ci sono 28 forme qui sotto. Quanti gruppi di 4 puoi farne? Quante ne avanzano?



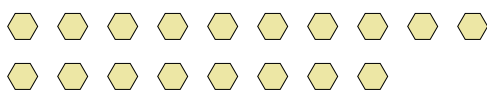
- 4) Ci sono 24 forme qui sotto. Quanti gruppi di 4 puoi farne? Quante ne avanzano?




- 5) Ci sono 22 forme qui sotto. Quanti gruppi di 7 puoi farne? Quante ne avanzano?




- 6) Ci sono 18 forme qui sotto. Quanti gruppi di 9 puoi farne? Quante ne avanzano?



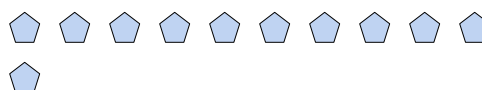
- 7) Ci sono 15 forme qui sotto. Quanti gruppi di 8 puoi farne? Quante ne avanzano?



- 8) Ci sono 27 forme qui sotto. Quanti gruppi di 5 puoi farne? Quante ne avanzano?



- 9) Ci sono 11 forme qui sotto. Quanti gruppi di 4 puoi farne? Quante ne avanzano?

**Risposte**Es. 2 3

1. _____

2. _____

3. _____

4. _____

5. _____

6. _____

7. _____

8. _____

9. _____

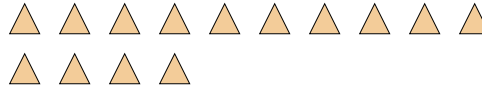


Segui l'esempio per rispondere alle domande.

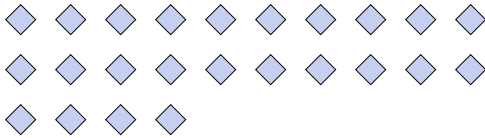
- Es) Ci sono 15 forme qui sotto. Quanti gruppi di 6 puoi farne? Quante ne avanzano?




- 1) Ci sono 14 forme qui sotto. Quanti gruppi di 2 puoi farne? Quante ne avanzano?




- 2) Ci sono 24 forme qui sotto. Quanti gruppi di 2 puoi farne? Quante ne avanzano?



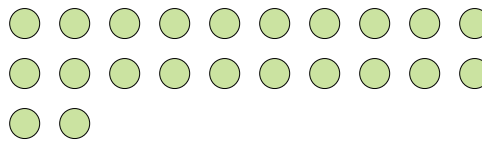
- 3) Ci sono 28 forme qui sotto. Quanti gruppi di 4 puoi farne? Quante ne avanzano?



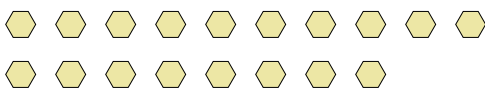
- 4) Ci sono 24 forme qui sotto. Quanti gruppi di 4 puoi farne? Quante ne avanzano?




- 5) Ci sono 22 forme qui sotto. Quanti gruppi di 7 puoi farne? Quante ne avanzano?



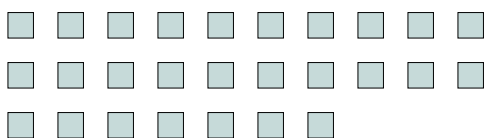
- 6) Ci sono 18 forme qui sotto. Quanti gruppi di 9 puoi farne? Quante ne avanzano?



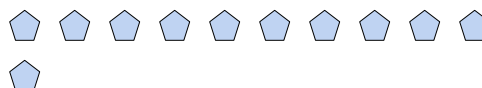
- 7) Ci sono 15 forme qui sotto. Quanti gruppi di 8 puoi farne? Quante ne avanzano?



- 8) Ci sono 27 forme qui sotto. Quanti gruppi di 5 puoi farne? Quante ne avanzano?



- 9) Ci sono 11 forme qui sotto. Quanti gruppi di 4 puoi farne? Quante ne avanzano?

**Risposte**

Es.	<u>2</u>	<u>3</u>
1.	<u>7</u>	<u>0</u>
2.	<u>12</u>	<u>0</u>
3.	<u>7</u>	<u>0</u>
4.	<u>6</u>	<u>0</u>
5.	<u>3</u>	<u>1</u>
6.	<u>2</u>	<u>0</u>
7.	<u>1</u>	<u>7</u>
8.	<u>5</u>	<u>2</u>
9.	<u>2</u>	<u>3</u>