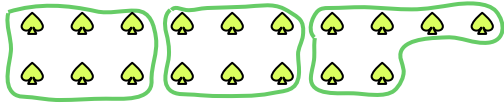





Usa le forme per risopndere alle domande.


Es) Quanti gruppi di 6 puoi fare con le 18 forme qui sotto?



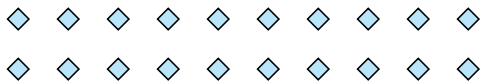
2) Quanti gruppi di 7 puoi fare con le 21 forme qui sotto?




4) Quanti gruppi di 3 puoi fare con le 24 forme qui sotto?



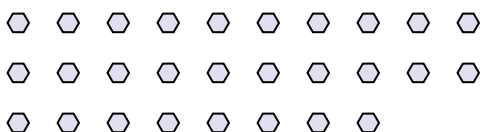
6) Quanti gruppi di 5 puoi fare con le 20 forme qui sotto?



8) Quanti gruppi di 9 puoi fare con le 36 forme qui sotto?



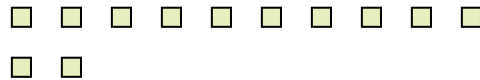
10) Quanti gruppi di 2 puoi fare con le 28 forme qui sotto?



1) Quanti gruppi di 5 puoi fare con le 40 forme qui sotto?



3) Quanti gruppi di 6 puoi fare con le 12 forme qui sotto?



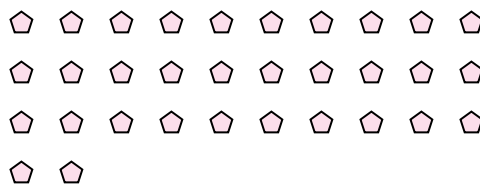
5) Quanti gruppi di 2 puoi fare con le 4 forme qui sotto?



7) Quanti gruppi di 9 puoi fare con le 18 forme qui sotto?



9) Quanti gruppi di 2 puoi fare con le 32 forme qui sotto?



11) Quanti gruppi di 8 puoi fare con le 24 forme qui sotto?

**Risposte**Es. 31. 82. 33. 24. 85. 26. 47. 28. 49. 1610. 1411. 3