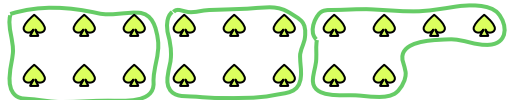




Usa le forme per risopndere alle domande.

Es) Quanti gruppi di 6 puoi fare con le 18 forme qui sotto?




1) Quanti gruppi di 3 puoi fare con le 9 forme qui sotto?



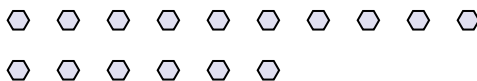
Risposte

Es. 3

2) Quanti gruppi di 6 puoi fare con le 18 forme qui sotto?



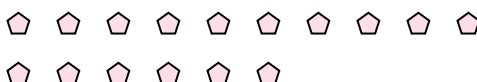
3) Quanti gruppi di 8 puoi fare con le 16 forme qui sotto?



4) Quanti gruppi di 4 puoi fare con le 8 forme qui sotto?



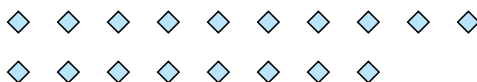
5) Quanti gruppi di 8 puoi fare con le 16 forme qui sotto?




6) Quanti gruppi di 2 puoi fare con le 24 forme qui sotto?




7) Quanti gruppi di 2 puoi fare con le 18 forme qui sotto?



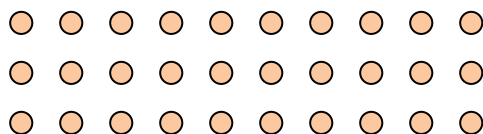
8) Quanti gruppi di 9 puoi fare con le 27 forme qui sotto?



9) Quanti gruppi di 9 puoi fare con le 36 forme qui sotto?



10) Quanti gruppi di 6 puoi fare con le 30 forme qui sotto?



11) Quanti gruppi di 3 puoi fare con le 39 forme qui sotto?



1. _____

2. _____

3. _____

4. _____

5. _____

6. _____

7. _____

8. _____

9. _____

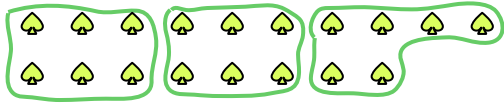
10. _____

11. _____



Usa le forme per risopndere alle domande.

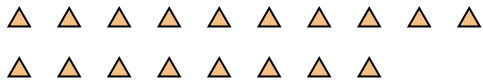
Es) Quanti gruppi di 6 puoi fare con le 18 forme qui sotto?



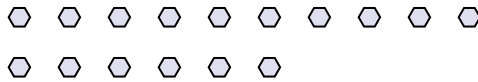
1) Quanti gruppi di 3 puoi fare con le 9 forme qui sotto?



2) Quanti gruppi di 6 puoi fare con le 18 forme qui sotto?



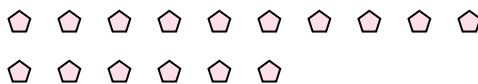
3) Quanti gruppi di 8 puoi fare con le 16 forme qui sotto?



4) Quanti gruppi di 4 puoi fare con le 8 forme qui sotto?



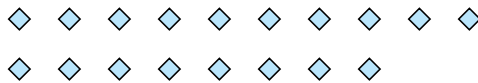
5) Quanti gruppi di 8 puoi fare con le 16 forme qui sotto?




6) Quanti gruppi di 2 puoi fare con le 24 forme qui sotto?




7) Quanti gruppi di 2 puoi fare con le 18 forme qui sotto?



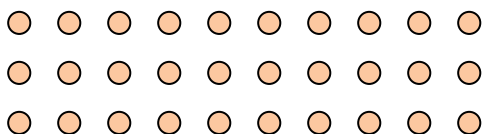
8) Quanti gruppi di 9 puoi fare con le 27 forme qui sotto?



9) Quanti gruppi di 9 puoi fare con le 36 forme qui sotto?



10) Quanti gruppi di 6 puoi fare con le 30 forme qui sotto?



11) Quanti gruppi di 3 puoi fare con le 39 forme qui sotto?



Risposte

Es. 3

1. 3

2. 3

3. 2

4. 2

5. 2

6. 12

7. 9

8. 3

9. 4

10. 5

11. 13