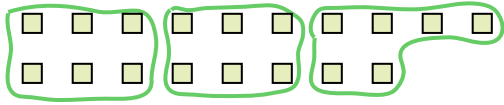





Usa le forme per risopndere alle domande.

Es) Quanti gruppi di 6 puoi fare con le 18 forme qui sotto?




1) Quanti gruppi di 3 puoi fare con le 30 forme qui sotto?




Risposte

Es. 3

2) Quanti gruppi di 4 puoi fare con le 28 forme qui sotto?



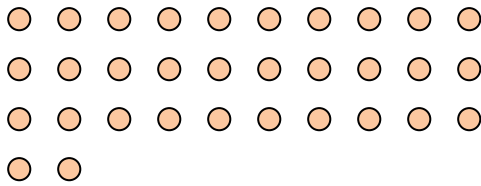
3) Quanti gruppi di 2 puoi fare con le 40 forme qui sotto?



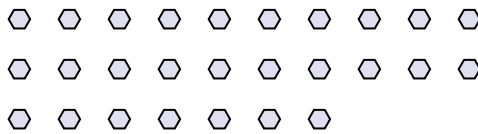
1. _____

2. _____

4) Quanti gruppi di 4 puoi fare con le 32 forme qui sotto?



5) Quanti gruppi di 9 puoi fare con le 27 forme qui sotto?



3. _____

4. _____

5. _____

6. _____

7. _____


8. _____

9. _____

6) Quanti gruppi di 6 puoi fare con le 36 forme qui sotto?




7) Quanti gruppi di 3 puoi fare con le 36 forme qui sotto?



10. _____

11. _____

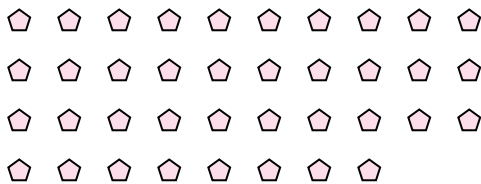
8) Quanti gruppi di 6 puoi fare con le 36 forme qui sotto?



9) Quanti gruppi di 4 puoi fare con le 36 forme qui sotto?



10) Quanti gruppi di 2 puoi fare con le 38 forme qui sotto?



11) Quanti gruppi di 7 puoi fare con le 14 forme qui sotto?



