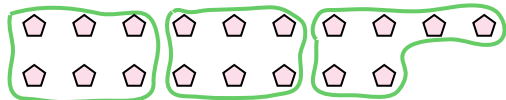






Usa le forme per risopndere alle domande.

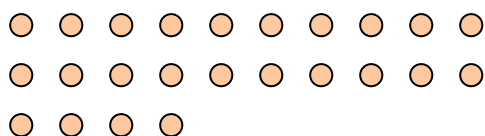
Es) Quanti gruppi di 6 puoi fare con le 18 forme qui sotto?




2) Quanti gruppi di 3 puoi fare con le 6 forme qui sotto?



4) Quanti gruppi di 8 puoi fare con le 24 forme qui sotto?



6) Quanti gruppi di 4 puoi fare con le 16 forme qui sotto?



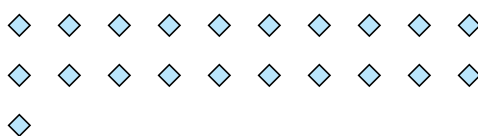
8) Quanti gruppi di 3 puoi fare con le 15 forme qui sotto?



10) Quanti gruppi di 4 puoi fare con le 8 forme qui sotto?



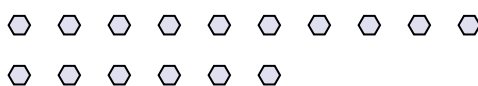
1) Quanti gruppi di 7 puoi fare con le 21 forme qui sotto?




3) Quanti gruppi di 6 puoi fare con le 18 forme qui sotto?



5) Quanti gruppi di 8 puoi fare con le 16 forme qui sotto?



7) Quanti gruppi di 7 puoi fare con le 35 forme qui sotto?



9) Quanti gruppi di 2 puoi fare con le 18 forme qui sotto?



11) Quanti gruppi di 7 puoi fare con le 14 forme qui sotto?



**Risposte**

Es. 3

1. 3

2. 2

3. 3

4. 3

5. 2

6. 4

7. 5

8. 5

9. 9

10. 2

11. 2