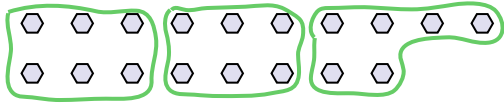




Usa le forme per risopndere alle domande.

Es) Quanti gruppi di 6 puoi fare con le 18 forme qui sotto?




1) Quanti gruppi di 6 puoi fare con le 12 forme qui sotto?



Risposte

Es. 3


2) Quanti gruppi di 7 puoi fare con le 35 forme qui sotto?



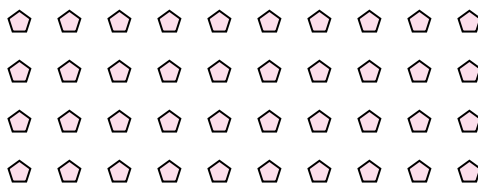
3) Quanti gruppi di 4 puoi fare con le 8 forme qui sotto?




4) Quanti gruppi di 8 puoi fare con le 24 forme qui sotto?



5) Quanti gruppi di 4 puoi fare con le 40 forme qui sotto?




6) Quanti gruppi di 6 puoi fare con le 36 forme qui sotto?




7) Quanti gruppi di 5 puoi fare con le 10 forme qui sotto?



8) Quanti gruppi di 9 puoi fare con le 27 forme qui sotto?



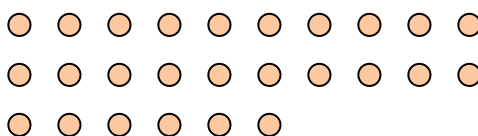
9) Quanti gruppi di 8 puoi fare con le 32 forme qui sotto?



10) Quanti gruppi di 6 puoi fare con le 18 forme qui sotto?



11) Quanti gruppi di 2 puoi fare con le 26 forme qui sotto?



1. _____

2. _____

3. _____

4. _____

5. _____

6. _____

7. _____

8. _____

9. _____

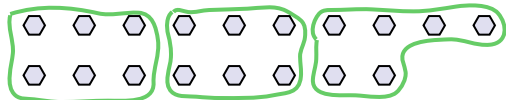
10. _____

11. _____




Usa le forme per risopndere alle domande.


Es) Quanti gruppi di 6 puoi fare con le 18 forme qui sotto?




2) Quanti gruppi di 7 puoi fare con le 35 forme qui sotto?




4) Quanti gruppi di 8 puoi fare con le 24 forme qui sotto?



6) Quanti gruppi di 6 puoi fare con le 36 forme qui sotto?



8) Quanti gruppi di 9 puoi fare con le 27 forme qui sotto?



10) Quanti gruppi di 6 puoi fare con le 18 forme qui sotto?



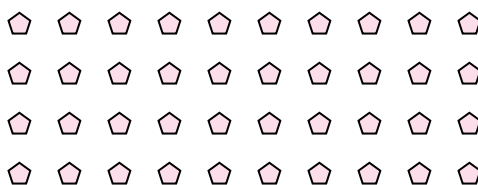
1) Quanti gruppi di 6 puoi fare con le 12 forme qui sotto?



3) Quanti gruppi di 4 puoi fare con le 8 forme qui sotto?



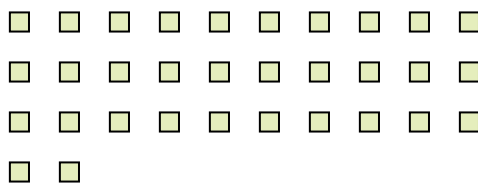
5) Quanti gruppi di 4 puoi fare con le 40 forme qui sotto?



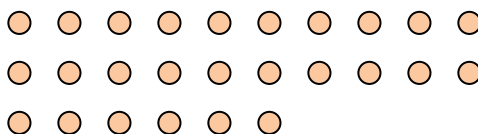
7) Quanti gruppi di 5 puoi fare con le 10 forme qui sotto?



9) Quanti gruppi di 8 puoi fare con le 32 forme qui sotto?



11) Quanti gruppi di 2 puoi fare con le 26 forme qui sotto?

**Risposte**Es. 31. 22. 53. 24. 35. 106. 67. 28. 39. 410. 311. 13