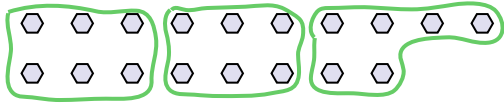





Usa le forme per risopndere alle domande.


Es) Quanti gruppi di 6 puoi fare con le 18 forme qui sotto?



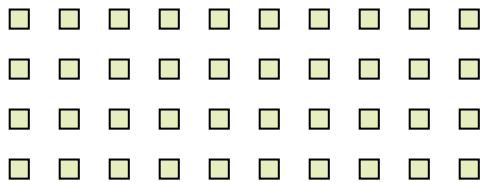
2) Quanti gruppi di 3 puoi fare con le 33 forme qui sotto?




4) Quanti gruppi di 7 puoi fare con le 14 forme qui sotto?



6) Quanti gruppi di 4 puoi fare con le 40 forme qui sotto?



8) Quanti gruppi di 7 puoi fare con le 28 forme qui sotto?



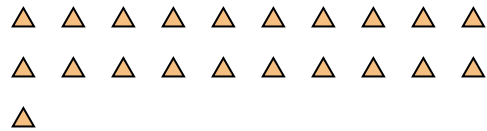
10) Quanti gruppi di 4 puoi fare con le 12 forme qui sotto?



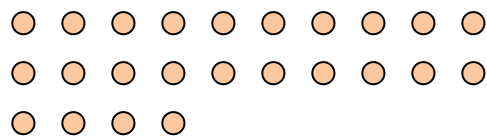
1) Quanti gruppi di 3 puoi fare con le 27 forme qui sotto?




3) Quanti gruppi di 7 puoi fare con le 21 forme qui sotto?



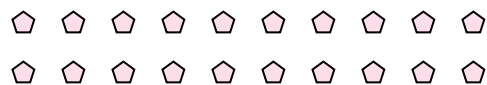
5) Quanti gruppi di 8 puoi fare con le 24 forme qui sotto?



7) Quanti gruppi di 8 puoi fare con le 32 forme qui sotto?



9) Quanti gruppi di 5 puoi fare con le 20 forme qui sotto?



11) Quanti gruppi di 7 puoi fare con le 21 forme qui sotto?



Risposte

Es. 3

1. 9

2. 11

3. 3

4. 2

5. 3

6. 10

7. 4

8. 4

9. 4

10. 3

11. 3