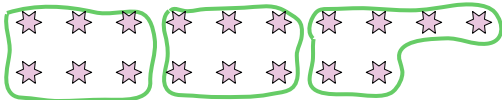


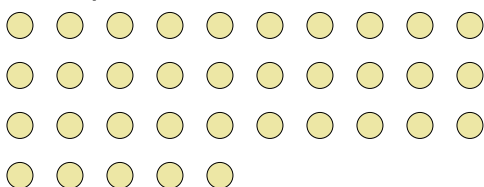


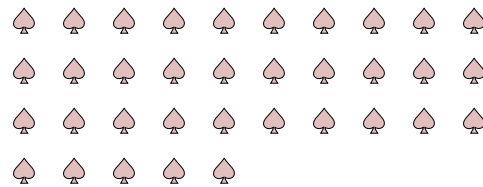
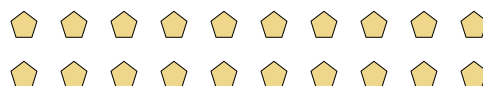
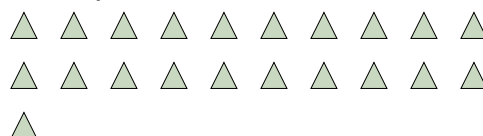






Usa le forme per rispondere alle domande.

**Es)** Quanti gruppi di 6 puoi fare con le 18 forme qui sotto?**2)** Quanti gruppi di 4 puoi fare con le 28 forme qui sotto?**4)** Quanti gruppi di 3 puoi fare con le 18 forme qui sotto?**6)** Quanti gruppi di 7 puoi fare con le 14 forme qui sotto?**8)** Quanti gruppi di 3 puoi fare con le 6 forme qui sotto?**10)** Quanti gruppi di 7 puoi fare con le 35 forme qui sotto?**1)** Quanti gruppi di 8 puoi fare con le 40 forme qui sotto?**3)** Quanti gruppi di 9 puoi fare con le 36 forme qui sotto?**5)** Quanti gruppi di 5 puoi fare con le 35 forme qui sotto?**7)** Quanti gruppi di 5 puoi fare con le 20 forme qui sotto?**9)** Quanti gruppi di 7 puoi fare con le 14 forme qui sotto?**11)** Quanti gruppi di 3 puoi fare con le 21 forme qui sotto?**Risposte**Es. 31. 52. 73. 44. 65. 76. 27. 48. 29. 210. 511. 7