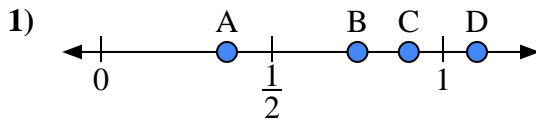
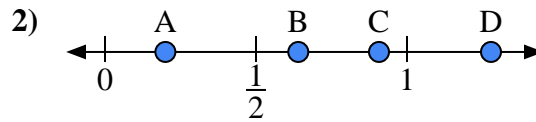




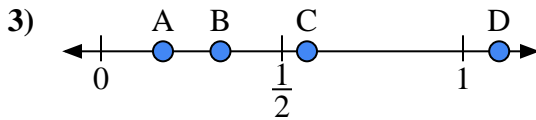
Usa la linea numerata per rispondere alle domande.

Risposte

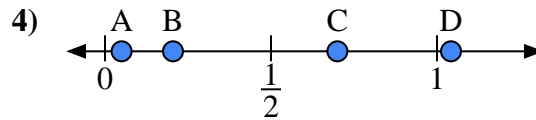
- a) Quale lettera rappresenta correttamente la posizione di 0,90?
 b) Quale lettera rappresenta correttamente la posizione di 0,75?



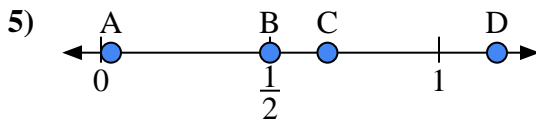
- a) Quale lettera rappresenta correttamente la posizione di 0,2?
 b) Quale lettera rappresenta correttamente la posizione di 0,64?



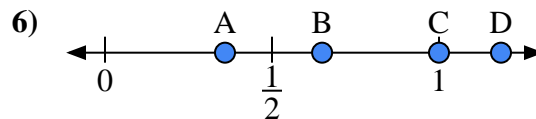
- a) Quale lettera rappresenta correttamente la posizione di 1,10?
 b) Quale lettera rappresenta correttamente la posizione di 0,33?



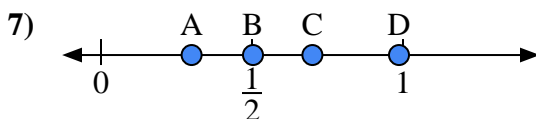
- a) Quale lettera rappresenta correttamente la posizione di 0,70?
 b) Quale lettera rappresenta correttamente la posizione di 0,05?



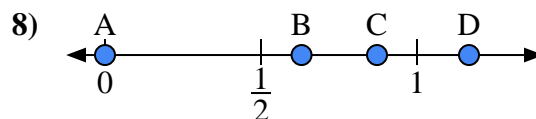
- a) Quale lettera rappresenta correttamente la posizione di 0,50?
 b) Quale lettera rappresenta correttamente la posizione di 0,67?



- a) Quale lettera rappresenta correttamente la posizione di 1,00?
 b) Quale lettera rappresenta correttamente la posizione di 0,65?



- a) Quale lettera rappresenta correttamente la posizione di 0,3?
 b) Quale lettera rappresenta correttamente la posizione di 0,70?

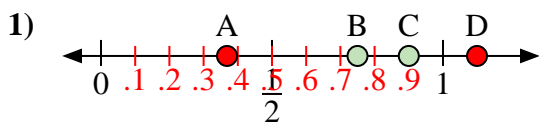


- a) Quale lettera rappresenta correttamente la posizione di 0,00?
 b) Quale lettera rappresenta correttamente la posizione di 0,63?

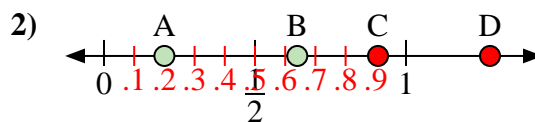
1. _____
 2. _____
 3. _____
 4. _____
 5. _____
 6. _____
 7. _____
 8. _____



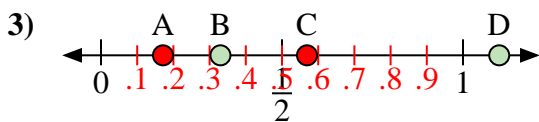
Usa la linea numerata per rispondere alle domande.

Risposte

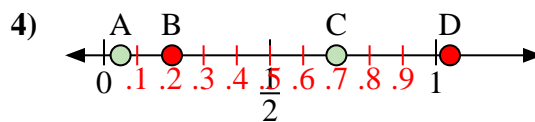
- a) Quale lettera rappresenta correttamente la posizione di 0,90?
 b) Quale lettera rappresenta correttamente la posizione di 0,75?



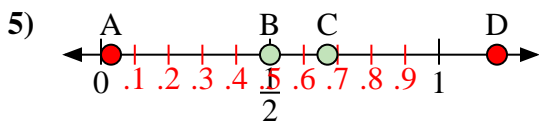
- a) Quale lettera rappresenta correttamente la posizione di 0,2?
 b) Quale lettera rappresenta correttamente la posizione di 0,64?



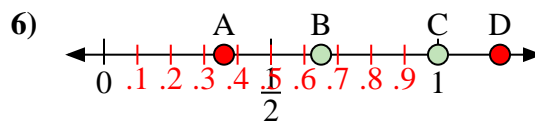
- a) Quale lettera rappresenta correttamente la posizione di 1,10?
 b) Quale lettera rappresenta correttamente la posizione di 0,33?



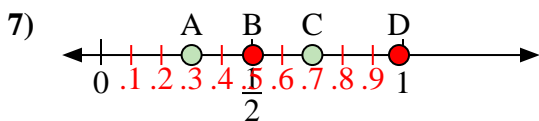
- a) Quale lettera rappresenta correttamente la posizione di 0,70?
 b) Quale lettera rappresenta correttamente la posizione di 0,05?



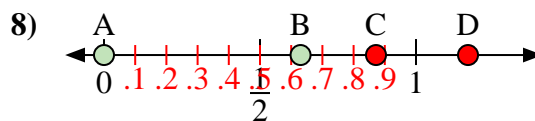
- a) Quale lettera rappresenta correttamente la posizione di 0,50?
 b) Quale lettera rappresenta correttamente la posizione di 0,67?



- a) Quale lettera rappresenta correttamente la posizione di 1,00?
 b) Quale lettera rappresenta correttamente la posizione di 0,65?



- a) Quale lettera rappresenta correttamente la posizione di 0,3?
 b) Quale lettera rappresenta correttamente la posizione di 0,70?



- a) Quale lettera rappresenta correttamente la posizione di 0,00?
 b) Quale lettera rappresenta correttamente la posizione di 0,63?

1. C B2. A B3. D B4. C A5. B C6. C B7. A C8. A B