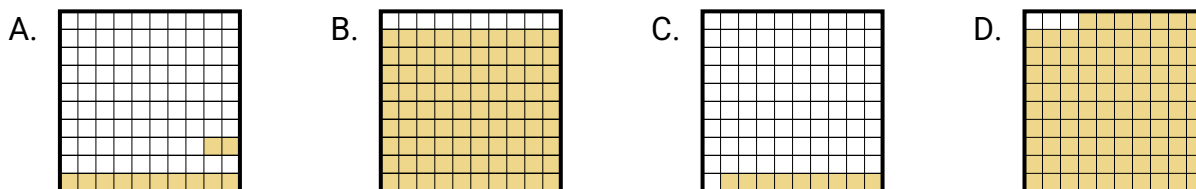


**Determina quale lettera risponde correttamente alla domanda.****Risposte**

- 1) Quale griglia 10×10 è colorata per rappresentare il numero decimale che, aggiunto a 0,03, dà un totale di 1,00?

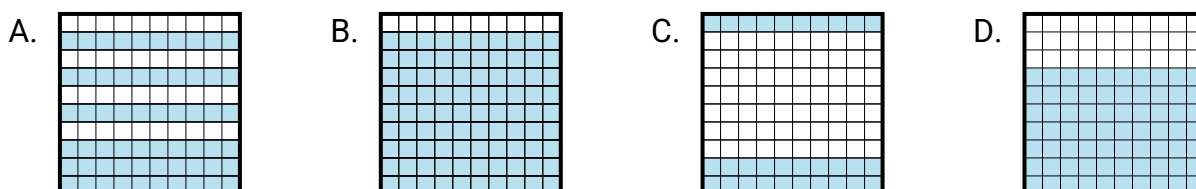


1. _____

2. _____

3. _____

- 2) Quale griglia 10×1 è colorata per rappresentare il numero decimale che, aggiunto a 0,3, dà un totale di 1,00?

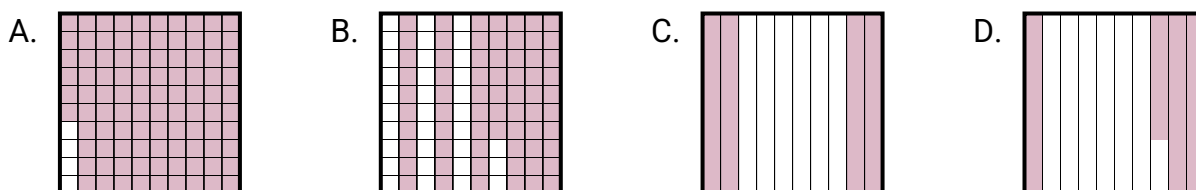


4. _____

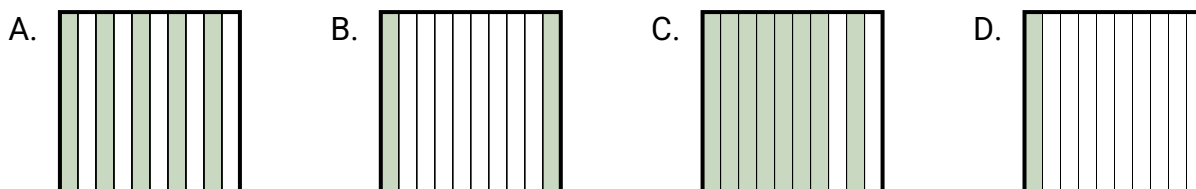
5. _____

6. _____

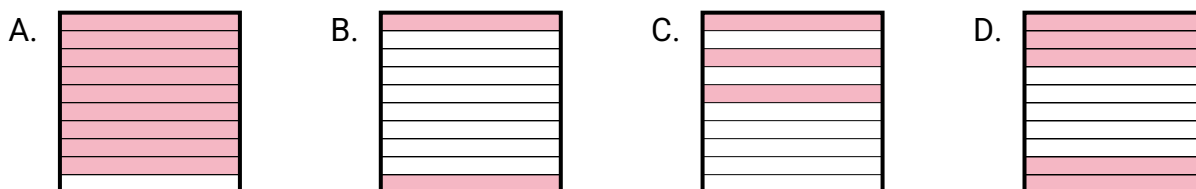
- 3) Quale griglia 10×10 è colorata per rappresentare il numero decimale che, aggiunto a 0,63, dà un totale di 1,00?



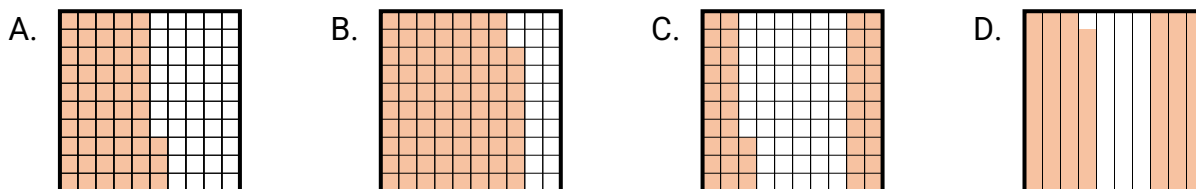
- 4) Quale griglia 10×1 è colorata per rappresentare il numero decimale che, aggiunto a 0,9, dà un totale di 1,00?



- 5) Quale griglia 10×1 è colorata per rappresentare il numero decimale che, aggiunto a 0,7, dà un totale di 1,00?

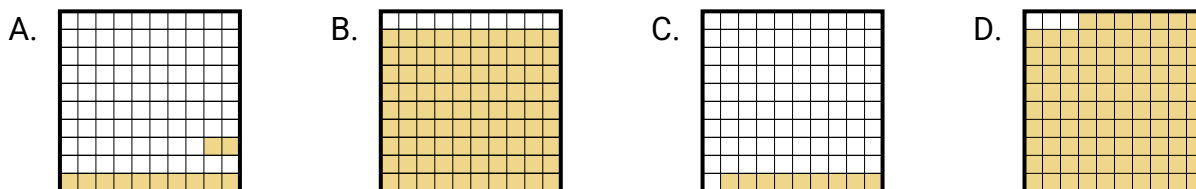


- 6) Quale griglia 10×10 è colorata per rappresentare il numero decimale che, aggiunto a 0,31, dà un totale di 1,00?

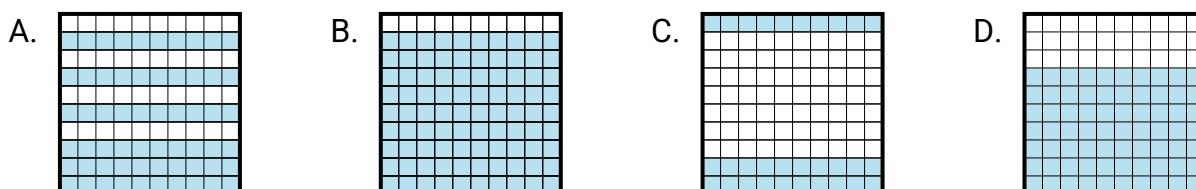


**Determina quale lettera risponde correttamente alla domanda.****Risposte**

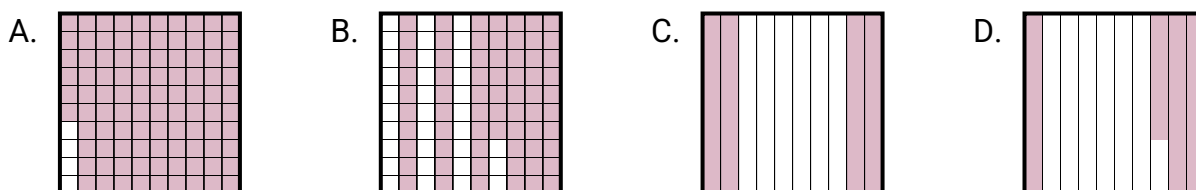
- 1) Quale griglia 10×10 è colorata per rappresentare il numero decimale che, aggiunto a 0,03, dà un totale di 1,00?

1. **D**2. **D**3. **D**

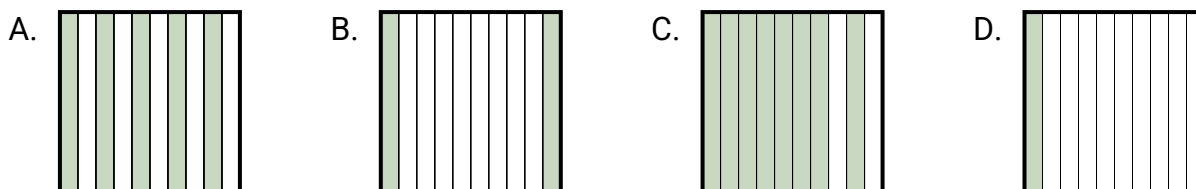
- 2) Quale griglia 10×1 è colorata per rappresentare il numero decimale che, aggiunto a 0,3, dà un totale di 1,00?

4. **D**5. **C**6. **D**

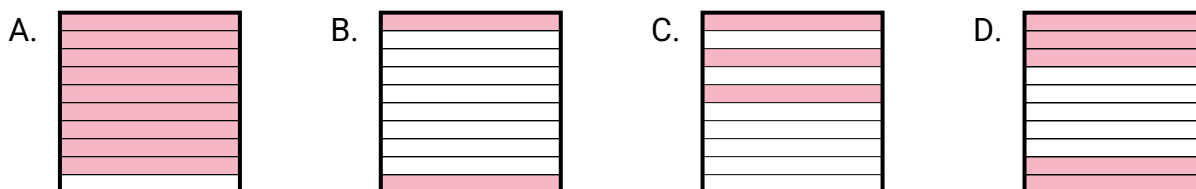
- 3) Quale griglia 10×10 è colorata per rappresentare il numero decimale che, aggiunto a 0,63, dà un totale di 1,00?



- 4) Quale griglia 10×1 è colorata per rappresentare il numero decimale che, aggiunto a 0,9, dà un totale di 1,00?



- 5) Quale griglia 10×1 è colorata per rappresentare il numero decimale che, aggiunto a 0,7, dà un totale di 1,00?



- 6) Quale griglia 10×10 è colorata per rappresentare il numero decimale che, aggiunto a 0,31, dà un totale di 1,00?

