

**Determina quale lettera meglio rappresenta il volume****Risposte****Xícara**

Una taza se refiere a la cantidad de leche que se obtiene de la cafetería.

**Pinta**

Uma pinta é aproximadamente a quantidade que você recebe em um copo grande.  
1 pinta = 2 xícaras

**Quarto**

Um quarto é mais ou menos a quantidade que você consegue em um recipiente grande de leite.  
1 cuarto = 2 pintas


**Galón**

Un galón es la cantidad que viene en un recipiente de plástico grande.  
1 galón = 4 cuartos



1. \_\_\_\_\_
2. \_\_\_\_\_
3. \_\_\_\_\_
4. \_\_\_\_\_
5. \_\_\_\_\_
6. \_\_\_\_\_
7. \_\_\_\_\_
8. \_\_\_\_\_
9. \_\_\_\_\_

1)



Serbatoio di benzina in un'auto

- A. 16 tazze
- B. 4 pinte
- C. 3 quarti
- D. 15 galloni

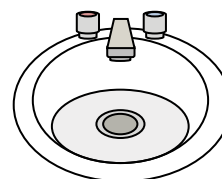
2)



Dentifricio in tubetto

- A. 0.5 galloni
- B. 5 grammi
- C. 5 quarti
- D. 0.5 tazze

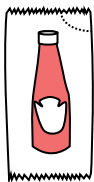
3)



Acqua nel lavandino del bagno

- A. 2 pinte
- B. 2 fluid ounces
- C. 2 galloni
- D. 2 tazze

4)



Ketchup in un pacchetto

- A. 2 quarti
- B. 0.5 galloni
- C. meno di 1 tazza
- D. 1.5 pinte


5)



Colla in una bottiglia

- A. 1 pinta
- B. 3 galloni
- C. 0.5 tazze
- D. 2 quarti

6)



Sabbia tiene una carriola

- A. 45 galloni
- B. 1000 grammi
- C. 8 quarti
- D. 4 tazze

7)



Sabbia in un secchio

- A. 7 fluid ounces
- B. 1 gallone
- C. 32 galloni
- D. 1 tazza

8)



Liquido che tiene un cucchiaino

- A. Less than a cup
- B. 1 tazza
- C. 1 pinta
- D. 1 quart

9)



Soda in lattina

- A. 1 gallone
- B. 1.5 tazze
- C. 4 tazze
- D. 4 pinte

**Determina quale lettera meglio rappresenta il volume****Risposte****Xícara**

Una taza se refiere a la cantidad de leche que se obtiene de la cafetería.

**Pinta**

Uma pinta é aproximadamente a quantidade que você recebe em um copo grande.  
1 pinta = 2 xícaras

**Quarto**


Um quarto é mais ou menos a quantidade que você consegue em um recipiente grande de leite.  
1 cuarto = 2 pintas

**Galón**

Un galón es la cantidad que viene en un recipiente de plástico grande.  
1 galón = 4 cuartos



1)



Serbatoio di benzina in un'auto

- A. 16 tazze
- B. 4 pinte
- C. 3 quarti
- D. 15 galloni

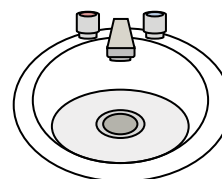
2)



Dentifricio in tubetto

- A. 0.5 galloni
- B. 5 grammi
- C. 5 quarti
- D. 0.5 tazze

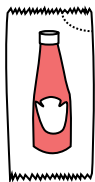
3)



Acqua nel lavandino del bagno

- A. 2 pinte
- B. 2 fluid ounces
- C. 2 galloni
- D. 2 tazze

4)



Ketchup in un pacchetto

- A. 2 quarti
- B. 0.5 galloni
- C. meno di 1 tazza
- D. 1.5 pinte


5)



Colla in una bottiglia

- A. 1 pinta
- B. 3 galloni
- C. 0.5 tazze
- D. 2 quarti

6)



Sabbia tiene una carriola

- A. 45 galloni
- B. 1000 grammi
- C. 8 quarti
- D. 4 tazze

7)



Sabbia in un secchio

- A. 7 fluid ounces
- B. 1 gallone
- C. 32 galloni
- D. 1 tazza

8)



Liquido che tiene un cucchiaino

- A. Less than a cup
- B. 1 tazza
- C. 1 pinta
- D. 1 quart

9)



Soda in lattina

- A. 1 gallone
- B. 1.5 tazze
- C. 4 tazze
- D. 4 pinte

1. **D**2. **D**3. **C**4. **C**5. **C**6. **A**7. **B**8. **A**9. **B**