

**Determina quale lettera meglio rappresenta il volume****Risposte****Xícara**

Una taza se refiere a la cantidad de leche que se obtiene de la cafetería.

**Pinta**

Uma pinta é aproximadamente a quantidade que você recebe em um copo grande.
1 pinta = 2 xícaras

**Quarto**

Um quarto é mais ou menos a quantidade que você consegue em um recipiente grande de leite.
1 cuarto = 2 pintas

**Galón**

Un galón es la cantidad que viene en un recipiente de plástico grande.
1 galón = 4 cuartos



1. _____

2. _____

3. _____

4. _____

5. _____


6. _____

7. _____

8. _____

9. _____

1)



L'acqua tiene un barile

- A. 50 galloni
- B. 20 tazze
- C. 3 pollici
- D. 10 pinte

2)



Soda in lattina

- A. 4 tazze
- B. 1 gallone
- C. 4 pinte
- D. 1.5 tazze

3)



Farina in un lotto di biscotti

- A. 5 galloni
- B. 2 quarti
- C. 1.5 tazze
- D. 2 galloni

4)



Sabbia in un secchio

- A. 7 fluid ounces
- B. 1 tazza
- C. 1 gallone
- D. 32 galloni

5)



Misurino

- A. 1 tazza
- B. 1 gallone
- C. 1 quart
- D. 1 pinta


6)



Farina in padella di brownies

- A. 3 galloni
- B. 2 tazze
- C. 8 galloni
- D. 16 quarti

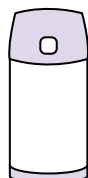
7)



Sabbia tiene una carriola

- A. 8 quarti
- B. 45 galloni
- C. 1000 grammi
- D. 4 tazze

8)



Liquido in un thermos

- A. 1 tazza
- B. 1 gallone
- C. 2 Libbre
- D. 4 quarti

9)



Acqua per una pianta da appartamento

- A. 3 galloni
- B. 6 quarti
- C. 4 Libbre
- D. 2 tazze

**Determina quale lettera meglio rappresenta il volume****Risposte****Xícara**

Una taza se refiere a la cantidad de leche que se obtiene de la cafetería.

**Pinta**

Uma pinta é aproximadamente a quantidade que você recebe em um copo grande.
1 pinta = 2 xícaras

**Quarto**


Um quarto é mais ou menos a quantidade que você consegue em um recipiente grande de leite.
1 cuarto = 2 pintas

**Galón**

Un galón es la cantidad que viene en un recipiente de plástico grande.
1 galón = 4 cuartos



1)



L'acqua tiene un barile

- A. 50 galloni
- B. 20 tazze
- C. 3 pollici
- D. 10 pinte

2)



Soda in lattina

- A. 4 tazze
- B. 1 gallone
- C. 4 pinte
- D. 1.5 tazze

3)



Farina in un lotto di biscotti

- A. 5 galloni
- B. 2 quarti
- C. 1.5 tazze
- D. 2 galloni

4)



Sabbia in un secchio

- A. 7 fluid ounces
- B. 1 tazza
- C. 1 gallone
- D. 32 galloni

5)



Misurino

- A. 1 tazza
- B. 1 gallone
- C. 1 quart
- D. 1 pinta


6)



Farina in padella di brownies

- A. 3 galloni
- B. 2 tazze
- C. 8 galloni
- D. 16 quarti

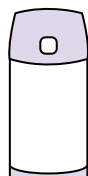
7)



Sabbia tiene una carriola

- A. 8 quarti
- B. 45 galloni
- C. 1000 grammi
- D. 4 tazze

8)



Liquido in un thermos

- A. 1 tazza
- B. 1 gallone
- C. 2 Libbre
- D. 4 quarti

9)



Acqua per una pianta da appartamento

- A. 3 galloni
- B. 6 quarti
- C. 4 Libbre
- D. 2 tazze

1. **A** 2. **D** 3. **C** 4. **C** 5. **A** 6. **B** 7. **B** 8. **A** 9. **D**