

**Determina quale lettera meglio rappresenta il volume****Risposte****Xícara**

Una taza se refiere a la cantidad de leche que se obtiene de la cafetería.

**Pinta**

Uma pinta é aproximadamente a quantidade que você recebe em um copo grande.  
1 pinta = 2 xícaras

**Quarto**


Um quarto é mais ou menos a quantidade que você consegue em um recipiente grande de leite.  
1 cuarto = 2 pintas

**Galón**

Un galón es la cantidad que viene en un recipiente de plástico grande.  
1 galón = 4 cuartos




1. \_\_\_\_\_
2. \_\_\_\_\_
3. \_\_\_\_\_
4. \_\_\_\_\_
5. \_\_\_\_\_
6. \_\_\_\_\_
7. \_\_\_\_\_
8. \_\_\_\_\_
9. \_\_\_\_\_



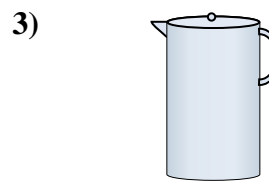
Vasca da bagno

- A. 40 tazze
- B. 8 quarti
- C. 20 pinte
- D. 45 galloni



Il contagocce tiene

- A. 1 pinta
- B. 3 galloni
- C. meno di 1 tazza
- D. 1 tazza



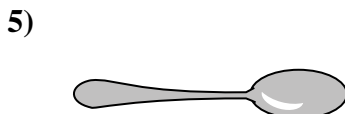
Liquido in una brocca

- A. 2 tazze
- B. 1 pinta
- C. 2 quarti
- D. 8 galloni



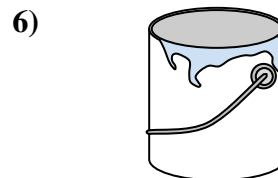
Ciotola di cereali

- A. 0.5 galloni
- B. 4 pinte
- C. 2 galloni
- D. 1 pinta



Liquido che tiene un cucchiaino

- A. Less than a cup
- B. 1 tazza
- C. 1 pinta
- D. 1 quart



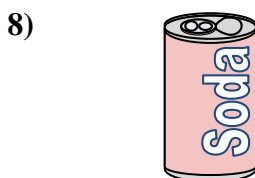
Dipinti in una lattina

- A. 3 fluid ounces
- B. 1 gallone
- C. 1 tazza
- D. 0.5 pinte



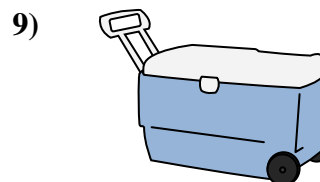
2 litri di soda

- A. 0.5 galloni
- B. 5 galloni
- C. 1 pinta
- D. 2 tazze



Soda in lattina

- A. 4 tazze
- B. 1.5 tazze
- C. 4 pinte
- D. 1 gallone



Ghiacciaia

- A. 100 quarti
- B. 16 tazze
- C. 5 galloni
- D. 2 quarti

**Determina quale lettera meglio rappresenta il volume****Risposte****Xícara**

Una taza se refiere a la cantidad de leche que se obtiene de la cafetería.

**Pinta**


Uma pinta é aproximadamente a quantidade que você recebe em um copo grande.  
1 pinta = 2 xícaras

**Quarto**

Um quarto é mais ou menos a quantidade que você consegue em um recipiente grande de leite.  
1 cuarto = 2 pintas


**Galón**

Un galón es la cantidad que viene en un recipiente de plástico grande.  
1 galón = 4 cuartos

1.   **D**  2.   **C**  3.   **C**  4.   **D**  5.   **A**  6.   **B**  7.   **A**  8.   **B**  9.   **A**  

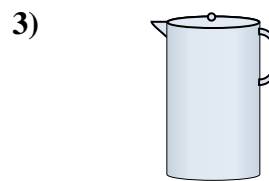
Vasca da bagno

- A. 40 tazze
- B. 8 quarti
- C. 20 pinte
- D. 45 galloni



Il contagocce tiene

- A. 1 pinta
- B. 3 galloni
- C. meno di 1 tazza
- D. 1 tazza



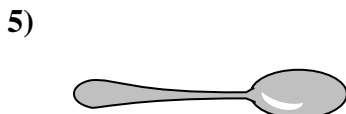
Liquido in una brocca

- A. 2 tazze
- B. 1 pinta
- C. 2 quarti
- D. 8 galloni



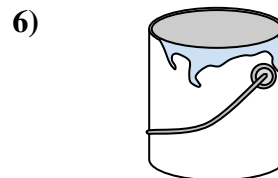
Ciotola di cereali

- A. 0.5 galloni
- B. 4 pinte
- C. 2 galloni
- D. 1 pinta



Liquido che tiene un cucchiaino

- A. Less than a cup
- B. 1 tazza
- C. 1 pinta
- D. 1 quart



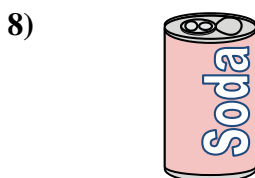
Dipinti in una lattina

- A. 3 fluid ounces
- B. 1 gallone
- C. 1 tazza
- D. 0.5 pinte



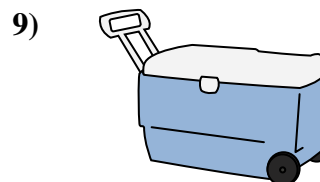
2 litri di soda

- A. 0.5 galloni
- B. 5 galloni
- C. 1 pinta
- D. 2 tazze



Soda in lattina

- A. 4 tazze
- B. 1.5 tazze
- C. 4 pinte
- D. 1 gallone



Ghiacciaia

- A. 100 quarti
- B. 16 tazze
- C. 5 galloni
- D. 2 quarti